

ACT®

Preparación para el examen ACT®

Contenido

- Examen ACT de práctica completo, incluyendo el examen de redacción opcional
- Información sobre las secciones de redacción y opción múltiple
- Estrategias para tomar el examen
- Qué esperar el día del examen

Esta publicación también se puede ver o descargar en español en www.actstudent.org

The **ACT**®

www.actstudent.org

Contenido

Un mensaje para los estudiantes	2
Información general del examen ACT	3
Estrategias para tomar el examen	4
Comportamientos prohibidos en el centro de examen	6
Contenido de los exámenes ACT	7
Cómo hacer los exámenes de práctica	11
Secciones de práctica de opción múltiple	12
Examen de redacción de práctica	53
Cómo calificar los exámenes de opción múltiple	56
Revisión de tu desempeño en los exámenes de opción múltiple	56
Cómo calificar el examen de redacción	61
Documento de respuestas de muestra	63

Un mensaje para los estudiantes

Este cuadernillo es un primer paso importante a medida que te preparas para la universidad y tu carrera profesional.

Esta información está diseñada para ayudarte a dar lo mejor de ti en el examen ACT para obtener la admisión en institutos de educación superior y universidades. Se incluyen consejos útiles y estrategias para tomar el examen, así como un examen ACT de práctica completo, con preguntas obsoletas de exámenes anteriores proporcionadas en fechas de examen anteriores en centros de examen de ACT. También se incluye un examen de redacción de práctica, un documento de respuestas de ejemplo, claves de respuestas e instrucciones para que te califiques tú mismo.

Lee este cuadernillo detenidamente y toma los exámenes de práctica con bastante anticipación al día del examen. De esa manera, estarás familiarizado con los exámenes, qué miden y las estrategias que puedes usar para dar lo mejor de ti en el día del examen.

Te recomendamos considerar también *el curso oficial de ritmo determinado por el estudiante ACT®*, respaldado por Kaplan® para aprender el contenido del examen y estrategias en un salón de clases virtual. Para ver todas nuestras opciones de preparación para el examen, visita www.act.org/the-act/testprep.

ACT está comprometido a representar la diversidad de la sociedad en todos sus aspectos, lo cual incluye raza, grupo étnico y género. Las preguntas, pasajes y las instrucciones para el examen de redacción se eligen para reflejar una variedad de culturas y están escritas de modo que no representen una desventaja para ningún grupo particular de examinados. ACT usa revisiones extensas y procedimientos de estadística para asegurar la equidad de los materiales del examen.

ACT realiza investigaciones y actualiza los exámenes periódicamente para proporcionar contenido de examen que refleje la instrucción del salón de clases y continúa siendo un pronosticador relevante de la preparación para la universidad y una carrera profesional. Puede haber diferencias sutiles entre el examen ACT de práctica en este cuadernillo y el examen que los estudiantes tomen el día del examen.

ACT respalda el *Código de Prácticas Justas de Aplicación de Exámenes en Educación* y el *Código de Responsabilidades Profesionales en Medición Educativa*, que guían el comportamiento de quienes participan en los exámenes educativos. ACT tiene el compromiso de asegurar que cada uno de sus programas de exámenes cumpla con las pautas de cada código. Se pueden encontrar copias de estos Códigos a través de las siguientes organizaciones:

- Código de Prácticas Justas de Aplicación de Exámenes en Educación: Asociación Estadounidense de Psicología (www.apa.org)
- Código de Responsabilidades Profesionales en Medición Educativa: Consejo Nacional de Medición Educativa (www.ncme.org)

NOTA: Este cuadernillo está protegido por las leyes federales de derechos de autor, que prohíben la reproducción de las preguntas del examen sin la previa autorización explícita por escrito de ACT, Inc. Ninguna porción de este cuadernillo puede copiarse o distribuirse sin el permiso por escrito de ACT.

Información general del examen ACT

El examen completo ACT consiste en cuatro secciones de opción múltiple en inglés, matemáticas, lectura y ciencias, con un examen de redacción opcional. Algunos institutos de educación superior y universidades requieren o aceptan las calificaciones de redacción de ACT, por lo que puedes considerar tomar la sección de redacción.

Examen	Preguntas	Minutos por examen
Inglés	75	45
Matemáticas	60	60
Lectura	40	35
Ciencias	40	35
Redacción (opcional)	1 ensayo	40

Formatos de examen para los exámenes nacionales ACT

El examen ACT completo se ofrece ahora a nivel nacional en formatos en papel y en línea. Los estudiantes que tomaron el examen completo ACT al menos una vez en 2016 o después podrán volver a tomar las secciones individuales durante cualquiera de las fechas de examen nacionales a través de la repetición del examen ACT por sección. Una repetición por sección es una opción de examen único en línea que ofrece la manera de ayudarte a concentrarte en las secciones individuales de ACT. Los estudiantes pueden tomar hasta 3 secciones durante una fecha de exámenes y pueden elegir el orden en el que van a tomar las secciones. Visita www.actstudent.org para obtener más información sobre la repetición de examen ACT por sección.

ACT prueba preguntas en las fechas de examen nacionales para desarrollar exámenes futuros. Tu examen puede incluir preguntas que no contarán para tu calificación. Estas preguntas se pueden combinar con las preguntas que no cuentan para tu calificación o se presentarán en un 5o examen que no se reflejará en tu reporte de calificaciones. Haz tu mejor esfuerzo para responder a estas preguntas. Tu participación puede ayudar a dar forma al futuro de ACT.

Con las preguntas combinadas, tu tiempo se extenderá para facilitar responder las preguntas adicionales.

Examen	Preguntas	Minutos por examen
Inglés	90	55
Matemáticas	65	65
Lectura	50	45
Ciencias	47	45
Redacción (opcional)	1 ensayo	40

Estrategias para el examen ACT

Cada sección de opción múltiple contiene preguntas con cuatro o cinco respuestas entre las cuales puedes elegir la respuesta correcta o la mejor respuesta.

El examen ACT mide el conocimiento, el entendimiento y las aptitudes que has adquirido durante tus años en la escuela. Debido a esto, es poco probable que un curso intensivo pueda mejorar tus calificaciones. Sin embargo, es una buena idea prepararte un poco para el examen a fin de familiarizarte con los exámenes y saber qué esperar el día del examen.

Estas son tres estrategias que te ayudarán a prepararte para el examen ACT.



Familiarízate con el contenido de las secciones.

Revisa la información de este cuadernillo. Observa cuáles áreas de contenido conforman la proporción más grande de las secciones. Los temas incluidos en cada área de contenido son ejemplos de temas posibles, pero no incluyen todas las posibilidades.



Actualiza tu conocimiento y aptitudes en las áreas de contenido.

Revisa las áreas de contenido que has estudiado, pero que no recuerdas bien. Refresca tu conocimiento en las áreas de contenido que forman las porciones más grandes del examen.



Estudia las áreas de contenido con las que no estás familiarizado.

Si no estás familiarizado con algunas áreas de contenido del examen ACT, considera realizar estudios en esas áreas antes de tomar el examen.

Estrategias para tomar el examen

Estas sugerencias aplican a las cuatro secciones de opción múltiple.

Distribuye tu tiempo.

Es importante que tengas suficiente tiempo para leer los pasajes/ preguntas y decidir tus respuestas. Para cada sección, resta el número de minutos que estimas que pasarás leyendo rápidamente los pasajes o leyendo la información proporcionada, luego divide el total de los minutos restantes permitidos entre el número de preguntas para determinar el tiempo estimado que debes dedicar a cada pregunta. Si es posible, dedica menos tiempo a cada pregunta y usa el resto del tiempo permitido para una sección para revisar tu trabajo y regresar a las preguntas de esa sección que te parecieron más difíciles.

Los límites de tiempo establecidos para cada sección dan casi a todos los estudiantes suficiente tiempo para contestar todas las preguntas. Sin embargo, distribuye tu tiempo evitando usar demasiado tiempo en un pasaje o tratando de encontrar la respuesta a un problema específico. Pasa a otras preguntas y regresa al problema pendiente si te queda tiempo.

Lee detenidamente las instrucciones.

Antes de comenzar cada sección, lee las instrucciones detenidamente.

- Las secciones de inglés, lectura y ciencias piden la mejor respuesta. Lee y considera todas las respuestas y selecciona la que responda mejor a la pregunta.
- La sección de matemáticas pide la respuesta correcta. Puedes deducir la respuesta que piensas que es la correcta y buscarla entre las opciones que se dan. Si tu respuesta no se encuentra entre las opciones proporcionadas, vuelve a leer la pregunta y considera todas las opciones de respuesta.

Lee detenidamente cada pregunta.

Necesitas entender exactamente lo que se te pide en cada pregunta. Algunas preguntas requerirán que realices varios pasos para encontrar la respuesta correcta o la mejor respuesta, mientras que otras se podrán contestar más rápidamente.

Contesta primero las preguntas fáciles.

Una buena estrategia es contestar las preguntas fáciles y saltarte las que te parezcan difíciles. Después de contestar las preguntas fáciles, regresa y responde las preguntas más difíciles si tienes tiempo.

Usa la lógica en preguntas más difíciles.

Cuando regreses a las preguntas más difíciles, trata de usar la lógica para eliminar las respuestas incorrectas. Compara las opciones de respuestas entre sí y observa cuál es la diferencia. Tales diferencias pueden proporcionarte pistas sobre lo que la pregunta requiere. Elimina tantas respuestas incorrectas como puedas, luego haz una conjetura fundamentada de las respuestas restantes.

Contesta todas las preguntas.

Tus calificaciones de las secciones solo se basarán en el número de preguntas que contestes correctamente; no se te penalizará por adivinar. Debes tratar de contestar todas las preguntas dentro del tiempo que se permite para cada sección.

Revisa tu trabajo.

Si después de haber contestado todas las preguntas de una sección aún tienes tiempo, regrésate y revisa tu trabajo. Cuando se anuncie que el tiempo ha terminado para una sección, ya no se te permitirá que revises o que marques las respuestas de otra sección.

Elige con precisión tus respuestas.

Si estás tomando el examen ACT en papel, asegúrate de llenar adecuadamente los óvalos correctos en tu documento de respuestas. Verifica que el número de la línea de óvalos de tu documento de respuestas sea el mismo que el número de la pregunta que estás contestando y asegúrate de marcar únicamente una respuesta para cada pregunta. Si tomas el examen ACT en línea, asegúrate de seleccionar la respuesta deseada.

Borra completamente.

Si quieres cambiar una respuesta de opción múltiple en papel, asegúrate de usar una goma de borrar suave que borre completamente la marca que no quieres y no deje borrones. No taches las respuestas ni uses un corrector líquido o en cinta; debes usar una goma de borrar. Los borrones o las marcas involuntarias pueden causar errores en la calificación.

Prepárate

Prepárate con bastante anticipación al examen ACT.

- Entérate de lo que debes esperar el día del examen. Lee la información de este cuadernillo y la que se encuentra en www.actstudent.org.
- Toma los exámenes de práctica en el orden que se muestran en este cuadernillo, toma el tiempo en cada uno de los exámenes y revisa tus respuestas usando las claves de respuestas.
- Si vas a tomar las secciones individuales a través de la repetición de examen ACT por sección, puedes usar los exámenes de práctica de este cuadernillo para mayor preparación.
- Puedes practicar usando el formato de examen en línea usado para la repetición por secciones o tomando el examen ACT completo en línea visitando practice.actdigitalservices.org.
- Revisa detenidamente la lista de verificación del día del examen en www.act.org/the-act/checklist.
- Descansa suficiente la noche anterior a los exámenes.

Nota: La mayoría de los procedimientos de este cuadernillo se refieren a tomar un examen en una fecha de examen nacional en un centro de examen (dentro de Estados Unidos, territorios de Estados Unidos o Puerto Rico). Los procedimientos pueden diferir un poco si tomas una aplicación diferente del examen ACT.

El día del examen

Preséntate a tiempo

- Para las fechas de examen nacionales, debes reportarte en tu centro del examen asignado a la hora indicada en tu boleto de admisión impreso (usualmente a las 8:00 a.m.). Si llegas tarde, no se te permitirá tomar el examen. Si tu boleto no indica un salón de examen específico, el personal del examen o los letreros publicados te dirigirán.

Qué debes llevar

- En el registro, se te pedirá que muestres una identificación con fotografía aceptable para poder ser admitido para tomar el examen. Consulta los requisitos de identificación de ACT en tu boleto o en www.act.org/the-act/id.
- Tu boleto de admisión también se requiere si tomas el examen en una fecha de examen nacional de ACT. No se te permitirá entrar al examen sin el boleto. Este contiene información de identificación para los formatos en papel y en línea. Si has perdido tu boleto, puedes imprimir otro a través de tu cuenta en la página web de ACT.
- Si vas a tomar el examen en los Estados Unidos, lleva lápices No. 2 afilados y buenas gomas de borrar (no se permiten lápices mecánicos ni bolígrafos). Si vas a tomar la prueba internacionalmente, se te proporcionarán implementos para escribir. No llesves ningún otro instrumento para escribir. No se te permitirá usarlos.
- Un reloj para distribuir tu tiempo. No llesves un reloj con capacidades de grabación, Internet, comunicación o calculadora (por ejemplo, un reloj inteligente o banda de acondicionamiento físico). Se te pedirá que te quites el reloj y que lo pongas boca arriba en el escritorio durante el examen.
- La calculadora permitida puede usarse únicamente en la sección de matemáticas. Es tu responsabilidad saber si tu calculadora es permitida. Para ver la información más actualizada sobre la política del uso de calculadoras de ACT, visita www.act.org/calculator-policy.html o llama al 800.498.6481 para escuchar un mensaje grabado.

En el salón del examen

- El personal del examen te dirigirá a tu asiento. Si necesitas un escritorio para zurdos, habla con el personal al llegar.
- No salgas del salón del examen después de que te admitan.
- Sólo se permitirá que tengas en tu escritorio lápices, gomas para borrar, una calculadora permitida, tu reloj (si lo trajiste al centro de examen) y tu boleto de papel.
- Se te pedirá que guardes todas tus demás pertenencias personales.
- No puedes usar tabaco en ninguna forma. Puedes consumir bocadillos y bebidas fuera del salón del examen durante el descanso.
- La hora para presentarte al examen será a las 8:00 a.m. El examen comenzará tan pronto como todos los examinados que estén presentes a las 8:00 a.m. se hayan registrado y estén sentados.
- Escucha atentamente todas las instrucciones que lea el personal del examen.
- Es importante que sigas todas las instrucciones al pie de la letra.

- Para el examen ACT completo normalmente saldrás más o menos a las 12:35 p.m. si tomas el examen ACT (sin redacción) o aproximadamente a la 1:35 p.m. si tomas el examen ACT con redacción.
- Si tomas la repetición de examen ACT por sección, la hora de salida para la repetición por secciones dependerá de qué y cuántas secciones elijas tomar.

Para estudiantes aprobados para tomar un examen en centros de exámenes nacionales con tiempo y medio

El examen con tiempo y medio está disponible en las secciones de redacción y de opción múltiple para estudiantes con discapacidades diagnosticadas o con dominio limitado del idioma inglés. Esto está disponible para el examen ACT completo y la repetición por secciones.

Si estás autorizado para tomar el examen con tiempo y medio en un centro de examen nacional, tendrás 50% de tiempo adicional para terminar cada sección.

El examen ACT completo:

Examen	Preguntas	Minutos por examen
Inglés	75	70
Matemáticas	60	90
Lectura	40	55
Ciencias	40	55
Redacción (opcional)	1 ensayo	60

Repetición por sección:

Examen	Preguntas	Minutos por examen
Inglés	90	85
Matemáticas	65	100
Lectura	50	70
Ciencias	47	70
Redacción (opcional)	1 ensayo	60

Después del examen

Anulación de tu examen el día del examen

Si tienes que salir del centro del examen antes de completar todos tus exámenes, debes decidir si deseas que se califique tu examen o no y luego informar tu decisión al personal del examen. Si no lo haces, tu examen será calificado.

Una vez que tengas acceso al contenido del examen, no puedes solicitar un cambio de la fecha de examen. Si no completas todos tus secciones y quieres tomarlas otra vez, tendrás que pagar otra vez la cuota completa por tu opción de exámenes. Cuando hayas empezado a llenar tu examen, no puedes cambiar de una opción del examen a otra.

Tomar el examen más de una vez

Si deseas tomar el examen de nuevo para aumentar tus calificaciones, puedes elegir tomar el examen ACT completo o si deseas concentrarte en secciones específicas, puedes considerar la repetición del examen ACT por sección.

ACT calculará y reportará una calificación combinada para los estudiantes que hayan tomado el examen ACT más de una vez o que hayan hecho una repetición por sección, dando a las universidades la opción de usar las mejores calificaciones del estudiante de todas las aplicaciones del examen, en lugar de las calificaciones de un solo examen, para sus decisiones sobre admisiones y becas.

Para obtener información sobre las calificaciones combinadas visita www.act.org/the-act/superscore.

Para más información sobre cómo volver a tomar el examen ACT, consulta www.act.org/the-act/retaking.

Tomar el examen más de una vez en la misma aplicación

No puedes recibir calificaciones de más de un examen que hayas tomado durante una fecha programada de examen nacional o internacional. Por ejemplo, puedes tomar el examen en sábado, en

una fecha autorizada que no sea sábado o en una fecha de examen reprogramada, pero no en más de uno de esos días en una fecha de examen particular. Si se te admite y se te permite tomar el examen por segunda vez, en una fecha de examen particular, reportaremos solo las calificaciones del primer examen. El segundo conjunto de calificaciones se cancelará sin reembolso.

Solicitud de una copia de las preguntas y respuestas de tu examen

En ciertas fechas de examen, puedes pedir (por una cuota adicional) una copia de las preguntas de opción múltiple utilizadas para determinar tus calificaciones, una lista de tus respuestas y la clave de respuestas. Si tomaste la sección de redacción, también recibirás una copia de las instrucciones para el ensayo, las pautas de calificación y las calificaciones de tu ensayo.

Este servicio no está disponible para todas las fechas de examen y está disponible únicamente para los exámenes nacionales o exámenes especiales en los Estados Unidos, territorios de Estados Unidos y Puerto Rico. Aplican restricciones.

Si te interesa este servicio, revisa www.act.org/the-act/tir para más detalles.

Comportamientos prohibidos en el centro de examen

Una lista completa de las conductas prohibidas se proporciona en los términos y condiciones que se encuentran en www.act.org/the-act/terms. Recuerda lo siguiente:

- No puedes acceder a dispositivos electrónicos como teléfonos celulares, relojes inteligentes y bandas de acondicionamiento físico en ningún momento durante los exámenes o durante el descanso. Todos los dispositivos deben estar apagados y estar fuera de la vista desde el momento en que seas admitido al examen hasta que salgas del centro del examen.
- No puedes llenar o alterar las respuestas a ninguna de las preguntas de opción múltiple ni continuar escribiendo o alterar el ensayo después de que se indique que se agotó el tiempo. Esto incluye arreglar marcas mal hechas o una letra tecleada accidentalmente. No puedes mirar ninguna sección del examen fuera del tiempo designado para ese examen.
- No puedes prestar ni recibir ayuda de ninguna manera. Esto incluye mirar el examen de otra persona.
- No tienes permitido usar marcadores, bolígrafos o lápices de colores, notas, diccionarios, papel para notas no aprobado u otros auxiliares.
- No puedes traer puesto un reloj durante la aplicación. Los relojes que se traigan al salón del examen deben ponerse boca arriba en la superficie de trabajo.
- No tienes permitido activar una alarma en un dispositivo personal para que suene en el salón del examen o crear cualquier otro tipo de interrupción. Si llevas puesto un reloj de pulsera con alarma o tienes cualquier otro dispositivo con alarma, asegúrate de que la alarma esté apagada.
- El examen es confidencial y permanece así aun después de terminar el examen. No puedes sacar ningún material del salón del examen. No puedes comentar ni compartir el contenido del examen, las respuestas ni los números de identificación del formulario del examen durante la administración del examen, durante los descansos ni después del examen.
- No puedes divulgar las preguntas del examen ni las respuestas de ninguna manera, en ningún momento, incluyendo en redes sociales, en su totalidad o en parte.
- No se permite comer, beber ni usar tabaco o materiales de lectura en el salón del examen.
- Tu centro de examen también puede tener procedimientos adicionales con los que debes cumplir.

Si se te observa o se sospecha que estás involucrado en una conducta prohibida, se te pedirá que te retires y tu examen no se calificará.

Contenido de las secciones del examen ACT

Sección de inglés

La sección de inglés consiste en múltiple ensayos o pasajes, cada uno seguido de un conjunto de preguntas de opción múltiple.

- Algunas preguntas se refieren a porciones subrayadas del pasaje y ofrecen varias alternativas para estas porciones. Tú decides cuál opción es la más apropiada tomando en cuenta el contexto del pasaje.
- Algunas preguntas se refieren a la porción subrayada, a una sección del pasaje o al pasaje como un todo. Tú decides qué opción contesta mejor la pregunta formulada.
- Muchas preguntas ofrecen la opción de “NO CAMBIAR” el pasaje.

La sección de inglés te coloca en la posición de un escritor que toma decisiones para revisar y editar un texto. Los textos y ensayos cortos en diferentes géneros proporcionan una variedad de situaciones retóricas. Los pasajes se seleccionan por su idoneidad para evaluar las aptitudes de lenguaje y redacción, y para reflejar los intereses y las experiencias de los estudiantes.

Se reportan cuatro calificaciones para el examen de inglés: una calificación para la sección en general y tres calificaciones de las categorías del reporte con base en conocimiento y aptitudes específicas. El porcentaje aproximado de la sección dedicada a cada categoría del reporte es:

Producción de redacción (29-32%)

Esta categoría requiere que apliques tu entendimiento del propósito y enfoque de un escrito.

- **Desarrollo del tema:** demostrar un entendimiento y control sobre los aspectos retóricos de los textos. Identificar los propósitos de las partes de los textos, determinar si un texto o parte de un texto ha cumplido con su objetivo previsto y evaluar la relevancia del material en términos del enfoque de un texto.
- **Organización, unidad y cohesión:** usar diferentes estrategias para asegurar que un texto esté lógicamente organizado, sea fluido y tenga una introducción y una conclusión efectivas.

Conocimiento de la lengua (13-19%)


Estas preguntas requieren que demuestres el uso efectivo del lenguaje al asegurar una precisión y concisión en la elección de palabras y mantener la consistencia del estilo y tono.

Convenciones del inglés estándar (51-56%)


Estas preguntas requieren que apliques un entendimiento de las convenciones de gramática del inglés estándar, uso y mecánica del inglés estándar para revisar y editar textos.

- **Estructura y formación de oraciones:** aplicar el entendimiento de la estructura y formación de la oración en un texto y hacer revisiones para mejorar la redacción.
- **Puntuación:** reconocer los problemas comunes con la puntuación del inglés estándar y hacer revisiones para mejorar la redacción.
- **Uso:** reconocer los problemas comunes con el uso del inglés estándar en un texto y hacer revisiones para mejorar la redacción.

Sugerencias para tomar la sección de inglés

 **Presta atención al estilo de redacción que se usa en cada pasaje.**


Los pasajes cubren una variedad de temas y están redactados en una variedad de estilos. Es importante que tomes en cuenta el estilo de redacción que se usa en cada pasaje. Al responder una pregunta, asegúrate de entender el contexto de la misma. Considera cómo la oración que contiene la porción subrayada encaja con las oraciones circundantes y con el pasaje como un todo.

 **Examina las porciones subrayadas del pasaje.**

Antes de responder una pregunta con una porción subrayada, examina cuidadosamente lo que está subrayado en el texto. Considera los elementos de redacción que se incluyen en cada porción subrayada.


- Algunas preguntas te pedirán que bases tu decisión en algún elemento específico de la escritura, como el tono o el énfasis que el texto debe comunicar.
- Algunas preguntas te indicarán que selecciones la alternativa a la porción subrayada que NO es aceptable o que es LA MENOS aceptable.

Las respuestas opcionales de cada pregunta contendrán cambios en uno o más de estos elementos de la escritura.


 **Presta atención a las preguntas que no tienen porciones subrayadas.**

Se te harán algunas preguntas sobre una sección del pasaje o sobre el pasaje como un todo, considerando una situación retórica dada. Las preguntas de este tipo frecuentemente están identificadas por un número de pregunta ubicado en un recuadro que se encuentra en el punto apropiado del pasaje.

Las preguntas sobre todo el pasaje se encuentran al final del pasaje y se presentan en un recuadro horizontal que contiene la siguiente instrucción: “Las preguntas __ y __ se refieren al pasaje anterior como un todo”.

 **Nota las diferencias en las respuestas opcionales.**


Muchas de las preguntas de la sección involucran más de un aspecto de redacción. Examina cada respuesta opcional y determina cuál es su diferencia con las otras. Ten cuidado de no elegir una respuesta que corrija un error, pero que genere un error diferente.

 **Determina cuál es la mejor respuesta.**

Cuando una pregunta te pida que elijas la mejor alternativa para una porción subrayada, considera el siguiente método:

- Decide cómo la porción subrayada se pudiera expresar mejor en inglés escrito estándar o en términos de la pregunta particular formulada.
 - ~ Si la porción subrayada es la mejor respuesta, selecciona “NO CAMBIAR”.
 - ~ Si no, revisa para ver si tu expresión es una de las respuestas opcionales. Si no encuentras tu expresión, selecciona la mejor de las respuestas que se presentan.

En el caso de las preguntas indicadas por un número en un recuadro, decide cuál es la opción más apropiada en términos de la pregunta formulada o de la situación retórica indicada.

 **Vuelve a leer la oración usando la respuesta que seleccionaste.**

Una vez que hayas seleccionado la respuesta que te parece mejor, vuelve a leer la oración u oraciones correspondientes del pasaje, e inserta la respuesta seleccionada en el lugar apropiado del texto para asegurarte de que es la mejor respuesta dentro del contexto del pasaje.

Sección de matemáticas

La sección de matemáticas está diseñada para evaluar las aptitudes matemáticas que los estudiantes han adquirido típicamente en los cursos que toman hasta el principio del grado 12.

La mayoría de las preguntas son autocontenidas. Algunas preguntas pueden pertenecer a un conjunto de varias preguntas (por ejemplo, cada una acerca de la misma gráfica o tabla).

El material que se cubre enfatiza las principales áreas de contenido que son un requisito para el desempeño satisfactorio en las matemáticas de los cursos del primer año universitario. Se asume el conocimiento de fórmulas básicas y aptitudes de cálculo como antecedentes para resolver los problemas, pero no se requiere recordar fórmulas complejas ni cálculos extensos.

Nota: puedes usar una calculadora en la sección de matemáticas. En www.act.org/calculator-policy.html puedes encontrar detalles de los modelos y funciones que se prohíben.

Se reportan nueve calificaciones para la sección de matemáticas: una calificación para la sección en general y ocho calificaciones de las categorías del reporte con base en el conocimiento y aptitudes específicas en matemáticas. El porcentaje aproximado de la sección dedicada a cada categoría del reporte es:

Preparación para matemáticas de nivel superior (57-60%)

Esta categoría cubre las matemáticas más recientes que los estudiantes están aprendiendo, empezando cuando comenzaron a usar álgebra como una manera general de expresar y resolver ecuaciones. Esta categoría se divide en cinco subcategorías:

- **Número y cantidad (7-10%):** demostrar conocimiento de sistemas numéricos reales y complejos. Razonar con cantidades numéricas en muchas formas, incluyendo expresiones con integrales y exponentes racionales, así como vectores y matrices.
- **Álgebra (12-15%):** resolver, graficar y modelar varios tipos de expresiones. Interpretar y usar diferentes tipos de ecuaciones, como relaciones lineales, polinomiales, radicales y exponenciales. Encontrar soluciones a sistemas de ecuaciones, incluso cuando son representados mediante matrices simples y aplicar los resultados a contextos del mundo real.
- **Funciones (12-15%):** demostrar conocimiento de la función: definición, notación, representación y aplicación. Usar funciones, incluyendo las funciones lineales, radicales, segmentadas, polinomiales y logarítmicas. Manipular y trasladar funciones, así como interpretar y usar características importantes de las gráficas.
- **Geometría (12-15%):** aplicar tu conocimiento de figuras y cuerpos sólidos, usando conceptos tales como las relaciones de congruencia y similitud o el área de una superficie y medición de volúmenes. Aplicar tu entendimiento a objetos compuestos y resolver valores

faltantes en triángulos, círculos y otras figuras. Usar razones trigonométricas y ecuaciones de secciones cónicas.

- **Estadística y probabilidad (8-12%):** describir el centro y la dispersión de distribuciones. Aplicar y analizar métodos de recolección de datos. Entender y modelar las relaciones en datos bivariados. Calcular probabilidades reconociendo los espacios de muestreo relacionados.

Integración de aptitudes esenciales (40-43%)

Esta categoría se centra en medir qué tan bien puedes sintetizar y aplicar tus entendimientos y aptitudes para resolver problemas más complejos. Las preguntas te piden abordar conceptos como tasas y porcentajes; relaciones proporcionales, área, área superficial y volumen; promedio y mediana, así como expresar números de diferentes maneras. Resolver problemas no rutinarios que implican combinar aptitudes en cadenas de pasos, aplicar aptitudes en contextos variados; entender conexiones y demostrar destreza.

Modelado

Esta categoría representa todas las preguntas que implican producir, interpretar, entender, evaluar y mejorar modelos. Cada pregunta también se cuenta en otras categorías del reporte adecuadas mencionadas anteriormente. Esta categoría es una medida general sobre qué tan bien usas las aptitudes de modelado en todos los temas de matemáticas.

Sugerencias para tomar la sección de matemáticas

 **Si utilizas una calculadora, hazlo de manera prudente.**


Todos los problemas de matemáticas se pueden resolver sin una calculadora. Muchos de ellos se resuelven mejor sin calculadora. Usa tu buen criterio para decidir cuándo usar y cuándo no usar la calculadora. Por ejemplo, en algunos problemas tal vez quieras realizar trabajo preliminar para aclarar tus pensamientos sobre la pregunta antes de comenzar a usar la calculadora.

 **Resuelve el problema.**

Para encontrar las soluciones a los problemas, generalmente realizarás trabajo preliminar en el espacio que se proporciona. Tal vez quieras revisar las respuestas opcionales después de leer las preguntas. Sin embargo, trabajar al revés desde las cinco opciones de respuesta puede requerir mucho tiempo y puede no ser eficaz.

 **Busca tu solución entre las opciones de respuesta.**

Una vez que hayas resuelto el problema, busca la respuesta que obtuviste entre las opcionales. Si tu respuesta no está incluida entre las opcionales, vuelve a leer detenidamente el problema para ver si pasaste por alto información importante. Presta mucha atención a la pregunta que se te hace. Si debes seleccionar una ecuación, revisa si la ecuación que piensas que es la mejor se puede transformar en una de las respuestas opcionales proporcionadas.

 **Asegúrate de contestar la pregunta.**

Las soluciones de muchas de las preguntas involucran varios pasos. Asegúrate de que tu respuesta tome en cuenta todos los pasos necesarios. Con frecuencia, una opción de respuesta es un resultado intermedio, no la respuesta final.

Asegúrate de que tu respuesta sea razonable.

Algunas veces un error de cálculo da como resultado una respuesta que no es prácticamente posible para la situación que se describe. Siempre piensa en tu respuesta y determina si es razonable.

Verifica tu respuesta.

Puedes llegar a una solución incorrecta cometiendo errores comunes en el proceso de resolución de problemas. Si tienes tiempo restante antes de que termine la sección de matemáticas, es importante que vuelvas a leer las preguntas y que verifiques tus respuestas para asegurarte de que sean correctas.

Sección de lectura

La sección de lectura que mide tu habilidad de leer con atención, razonar lógicamente sobre textos usando evidencia e integrar información de varias fuentes.

Las preguntas de la sección se centran en aptitudes de apoyo mutuo que los lectores deben utilizar al estudiar materiales escritos en una variedad de materias. Específicamente, las preguntas te pedirán determinar las ideas principales; localizar e interpretar detalles significativos; entender secuencias de eventos; hacer comparaciones; comprender las relaciones entre causa y efecto; determinar el significado de palabras dependientes del contexto, frases y declaraciones; hacer generalizaciones; analizar la voz y el método del autor o del narrador; analizar las aseveraciones y evidencia en argumentos e integrar información de varios textos.

La sección de lectura se compone de varias partes. Algunas partes consisten en un pasaje en prosa largo y otras consisten en pasajes en prosa cortos. Los pasajes representan los niveles y las clases de textos que comúnmente se encuentran en los planes de estudio del primer año universitario.

Cada pasaje va precedido por un encabezado que identifica el autor y el origen y puede incluir información de trasfondo importante para ayudarte a entender el pasaje. Cada parte contiene un conjunto de preguntas de opción múltiple. Estas preguntas no evalúan la memorización de hechos ajenos al pasaje o reglas de lógica formal, ni contienen preguntas aisladas de vocabulario. En las secciones que contienen dos pasajes cortos, algunas de las preguntas tienen que ver con ambos pasajes.

Se reportan cinco calificaciones para la sección de lectura: una calificación para la sección en general y tres calificaciones de las categorías del reporte con base en conocimiento y aptitudes específicas; y un indicador de comprensión de textos complejos. El porcentaje aproximado de la sección dedicada a cada categoría del reporte es:

Ideas y detalles clave (55-60%)

Esta categoría requiere que leas textos con atención para determinar las ideas y temas centrales. Resumir la información e ideas correctamente. Entender las relaciones y sacar inferencias y conclusiones lógicas, incluyendo el entender las relaciones de secuencia, comparativas y de causa y efecto.

Elaboración y estructura (25-30%)

Estas preguntas te piden determinar los significados de las palabras y frases, analizar la elección de palabras del escritor de manera retórica, analizar la estructura del texto; entender el propósito y perspectiva del autor, y analizar los puntos de vista de los personajes. Interpretar las decisiones del autor de manera retórica y diferenciar entre diferentes perspectivas y fuentes de información.

Integración de conocimiento e ideas (13-18%)

Esta categoría requiere que entiendas las aseveraciones de los autores, diferencias entre hechos y opiniones y uses evidencia para hacer conexiones entre los diferentes textos que están relacionados según el tema. Algunas preguntas necesitarán que analices cómo los autores construyen los argumentos y evalúes el razonamiento y la evidencia de diferentes fuentes.

Sugerencias para tomar la sección de lectura

Lee cada pasaje detenidamente.

Antes de comenzar a contestar una pregunta, lee el contenido detenidamente. Sé consciente de las relaciones entre las ideas. Puedes tomar notas sobre las ideas importantes de los pasajes.

Consulta los pasajes cuando contestes las preguntas.

Encontrarás las respuestas a algunas de las preguntas refiriéndote a lo que se indica explícitamente en el texto de los pasajes. Otras preguntas requerirán que tú determines los significados implícitos y que saques conclusiones y hagas comparaciones y generalizaciones. Considera el texto antes de contestar cualquier pregunta.

Sección de ciencias

La sección de ciencias mide las aptitudes de interpretación, análisis, evaluación, razonamiento y resolución de problemas que se requieren en las ciencias naturales. La sección presenta varios escenarios científicos auténticos, cada uno de ellos seguido por preguntas de opción múltiple.

El contenido incluye biología, química, ciencias de la Tierra y del espacio (por ejemplo, geología, astronomía y meteorología) y física. No se requiere un conocimiento avanzado de estas áreas, pero necesitarás conocimiento previo adquirido en cursos de ciencias introductorios generales para contestar correctamente algunas de las preguntas.

La sección de ciencias se centra en la evaluación multidimensional, con preguntas que evalúan el contenido de ciencias en combinación con aptitudes y prácticas de ciencias.

Las preguntas requieren que reconozcas y entiendas las características básicas de la información proporcionada y los conceptos relacionados con ella; que examines críticamente las relaciones entre la información proporcionada y las conclusiones obtenidas o hipótesis desarrolladas; y que generalices de la información proporcionada para obtener nueva información, sacar conclusiones o hacer predicciones.

Nota: No se permite usar una calculadora en la sección de ciencias.

La información científica aparece en uno de tres formatos:

- **Representación de datos (30–40%):** este formato presenta material gráfico y tabular similar al de las revistas y textos de ciencias. Las preguntas asociadas con este formato miden aptitudes como reconocer relaciones entre datos en tablas y gráficas; interpolar y extrapolar; y trasladar datos tabulares a gráficas.
- **Resúmenes de investigación (45–55%):** este formato proporciona descripciones y resultados de uno o más experimentos relacionados. Las preguntas se centran en el diseño de los experimentos y en la interpretación de los resultados experimentales.
- **Puntos de vista conflictivos (15–20%):** este formato presenta dos o más explicaciones del mismo fenómeno científico que, debido a que se basan en diferentes premisas o datos incompletos, son inconsistentes uno con el otro. Las preguntas se centran en la comprensión, análisis y comparación de puntos de vista o hipótesis alternativas.

Se reportan cuatro calificaciones para la sección de ciencias: una calificación para la sección en general y tres calificaciones de las categorías del reporte con base en conocimiento, habilidades y práctica científicos. El porcentaje aproximado de la sección dedicada a cada categoría del reporte es:

Interpretación de datos (40-50%)

Esta categoría te pide manipular y analizar datos científicos presentados en tablas, gráficas y diagramas científicos (por ejemplo, reconocer tendencias en datos, trasladar datos tabulares a gráficas, interpolar y extrapolar, y razonar matemáticamente).

Investigación científica (20-30%)

Esta categoría te pide entender las herramientas experimentales, procedimientos y diseño (por ejemplo, identificar controles y variables), y comparar, prolongar y modificar experimentos (por ejemplo, predecir los resultados de ensayos adicionales).

Evaluación de modelos, inferencias y resultados experimentales (25-35%)

Estas preguntas te piden juzgar la validez de la información científica y formular conclusiones y predicciones con base en esa información (por ejemplo, determinar cuál explicación para un fenómeno científico es sustentada por nuevos hallazgos).

Sugerencias para tomar la sección de ciencias



Lee detenidamente el pasaje.

Antes de comenzar a contestar una pregunta, lee el material científico que se te proporciona. Es importante que leas todo el texto y examines todas las tablas, gráficas o figuras. Puedes tomar notas sobre las ideas importantes. Algunos de los conjuntos de información describirán experimentos. Debes considerar el diseño experimental, incluso los controles y las variables, porque probablemente las preguntas abordarán este componente de la investigación científica.



Nota los diferentes puntos de vista en los pasajes.

Algunos materiales presentarán puntos de vista conflictivos y las preguntas te pedirán que distingas entre ellos. Puede ser útil tomar notas resumiendo cada punto de vista de las partes específicas de la sección.

Sección de redacción (opcional)

Si te inscribes para el examen ACT con redacción, tomarás la sección de redacción después de que termines las cuatro secciones de opción múltiple. También puedes optar por tomar la sección de redacción por separado a través de una repetición por sección. Tu calificación en la sección de redacción no afectará las calificaciones de los exámenes de opción múltiple ni tu calificación global.

La sección es un examen de 40 minutos que mide tus aptitudes de escritura, específicamente las que se enseñan en las clases de inglés de la escuela secundaria y en los cursos de composición de primer ingreso de la universidad.

La sección consiste en una instrucción para la redacción que describe un tema complejo y proporciona tres perspectivas diferentes sobre el mismo. Se te pide que leas la instrucción y escribas un ensayo en donde desarrolles tu propia perspectiva sobre el tema. Tu ensayo debe analizar la relación entre tu propia perspectiva y una o más de las otras perspectivas. Puedes adoptar una de las perspectivas proporcionadas en la instrucción como la tuya o puedes introducir una que es completamente diferente a las proporcionadas. Tu calificación no se verá afectada por la perspectiva que adoptes sobre el tema.

Se reportan cinco calificaciones para la sección de redacción: una sola calificación a nivel de materia reportada a una escala de 2 a 12 y cuatro calificaciones de los dominios que se basan en una rúbrica de calificación analítica. La calificación de la materia es el promedio redondeado de las cuatro calificaciones de los dominios. Los cuatro dominios de redacción son:

Ideas y análisis

Las calificaciones de este dominio reflejan la habilidad de generar ideas productivas e interactuar críticamente con múltiples perspectivas sobre el tema en cuestión. Los escritores competentes entienden el tema que se les invita a abordar, el propósito de la redacción y la audiencia. Ellos generan ideas que son relevantes a la situación.

Desarrollo y sustentación

Las calificaciones en este dominio reflejan la habilidad de debatir ideas, ofrecer razonamiento y estimular un argumento. Los escritores competentes explican y exploran sus ideas, discuten las implicaciones e ilustran a través de ejemplos. Ellos ayudan al lector a entender su manera de pensar acerca del tema.

Organización

Las calificaciones en este dominio reflejan la habilidad de organizar ideas con claridad y propósito. Las opciones de organización son integrales para una redacción efectiva. Los escritores competentes organizan su ensayo de una manera que demuestra claramente la relación entre las ideas y guían al lector durante su discusión.

Uso del lenguaje y convenciones

Las calificaciones en este dominio reflejan la habilidad de usar el lenguaje escrito para transmitir argumentos con claridad. Los escritores competentes hacen uso de las convenciones de la gramática, sintaxis, uso de palabras y mecánica. También están conscientes de su audiencia y ajustan el estilo y tono de su redacción para expresarse efectivamente.

Sugerencias para tomar la sección de redacción

Distribuye tu tiempo.

Organiza tu tiempo de acuerdo con la experiencia que tengas tomando exámenes de ensayos en la escuela y en otras circunstancias en las que hayas tenido que redactar dentro de un tiempo limitado. Es poco probable que tengas tiempo de hacer un borrador, revisar y pasar en limpio tu ensayo.

Planifica.

Antes de escribir, lee y considera detenidamente todo el material de las instrucciones. Asegúrate de entender el tema, las diferentes perspectivas sobre el tema y tu tarea de redacción del ensayo.

Se incluyen preguntas de planificación con las instrucciones, las cuales te ayudarán a analizar las diferentes perspectivas y a desarrollar la tuya propia. Usa estas preguntas para pensar críticamente en las instrucciones y generar una respuesta efectiva. ¿Cómo organizarías y sustentarías mejor tus ideas en un argumento escrito? Dedica tiempo a estructurar o bosquejar tu respuesta.

Nota: Las preguntas de planificación son opcionales y no se calificarán.

Escribe.

Establece el enfoque de tu ensayo siendo muy claro en tu argumento y sus ideas principales.

- Explica e ilustra tus ideas con razonamiento lógico y ejemplos significativos.
- Debate la importancia de tus ideas: ¿cuáles son las implicaciones de lo que tienes que decir y por qué es importante considerar tu argumento?

Mientras escribes, pregúntate si tu lógica es clara, si has sustentado tus aseveraciones y si has elegido palabras precisas para expresar tus ideas.

Revisa tu ensayo.

Trata de redactar tu ensayo de la manera más refinada que puedas. Antes de que se termine el tiempo, dedica unos minutos a revisar tu ensayo y corregir cualquier error.

Si tomas el examen ACT en papel, asegúrate de escribir tu ensayo de manera legible. Si encuentras palabras que son difíciles de leer, vuelve a escribirlas. Haz las correcciones y revisiones con pulcritud, entre las líneas. No escribas en los márgenes, si corresponde.

Practica.

Hay muchas maneras de prepararse para la sección de redacción. Lee periódicos y revistas, escucha los análisis de las noticias en línea, en la televisión o en el radio, o participa en discusiones y debates pensando detenidamente sobre otras perspectivas en relación con la tuya.

Una buena manera de prepararte para la sección de redacción es practicar redactando con diferentes propósitos para diferentes lectores. La redacción que realices en tus clases te ayudará, al igual que escribir en un diario personal, historias, ensayos, editoriales u otras cosas que escribas independientemente.

También es buena idea practicar escribiendo dentro de un límite de tiempo. Hacer el examen de redacción de práctica te dará una buena idea de cuánta práctica adicional puedes necesitar. Puede ser buena idea tomar la sección de redacción de práctica, aunque no planeas tomar el examen ACT con redacción. Te ayudará a desarrollar aptitudes que son importantes en el aprendizaje universitario y el mundo laboral.

Cómo hacer los exámenes de práctica

Es una buena idea hacer los exámenes de práctica bajo condiciones tan similares como sea posible a las que te enfrentarás el día del examen.

Las siguientes sugerencias te ayudarán:

- Si vas a tomar el examen ACT completo, los cuatro exámenes de opción múltiple requieren 2 horas y 55 minutos. Hazlos en orden, en una sola sesión, con un descanso de 10 a 15 minutos entre los exámenes 2 y 3.
- Solamente necesitarás lápices N.º 2 blandos y afilados, y buenas gomas para borrar. Retira todos los demás objetos de tu escritorio. No se te permitirá usar papel para notas.
- Si planeas usar una calculadora permitida en el examen de matemáticas, usa la misma calculadora que utilizarás el día del examen.
- Utiliza un reloj o cronómetro digital para tomar el tiempo en cada uno de los exámenes de práctica. Ajusta tu reloj cinco minutos antes del tiempo de terminación de cada examen, para que te acostumbres al anuncio verbal de que quedan cinco minutos.
- Date solo el tiempo permitido para cada examen.
- Desprende y usa el documento de respuestas de opción múltiple de las páginas 63 y 64.
- Lee las instrucciones para el examen en la primera página de cada examen de opción múltiple. Estas son las mismas instrucciones que aparecerán en tu cuadernillo del examen en el día del examen.
- Enciende tu cronómetro y comienza con el examen 1. Continúa hasta el examen 4, tomándote un descanso de 10 a 15 minutos entre los exámenes 2 y 3.
- Califica tus exámenes de opción múltiple usando la información que aparece a partir de la página 56.
- Si planeas tomar el examen ACT con redacción, lee las instrucciones de la primera página del examen de redacción de ACT de práctica (página 53). Estas son las mismas instrucciones que aparecerán en tu cuadernillo del examen en el día del examen. Activa tu reloj o cronómetro y luego lee las instrucciones en la página 54. Después de que sepas lo que las instrucciones te están pidiendo, planifica tu ensayo y luego escríbelo o imprímelo en hojas con rayas. (El día del examen, tu documento de respuestas tendrá rayas para que escribas tu ensayo). Califica tu ensayo usando la información de las páginas 61 y 62.

Practice Multiple-Choice Sections

EXAMINEE STATEMENTS, CERTIFICATION, AND SIGNATURE

1. **Statements:** I understand that by registering for, launching, starting, or submitting answer documents for an ACT® test, I am agreeing to comply with and be bound by the *Terms and Conditions: Testing Rules and Policies for the ACT® Test* (“Terms”).

I UNDERSTAND AND AGREE THAT THE TERMS PERMIT ACT TO CANCEL MY SCORES IF THERE IS REASON TO BELIEVE THEY ARE INVALID. THE TERMS ALSO LIMIT DAMAGES AVAILABLE TO ME AND REQUIRE ARBITRATION. BY AGREEING TO ARBITRATION, I WAIVE MY RIGHT TO HAVE DISPUTES HEARD BY A JUDGE OR JURY.

I understand that ACT owns the test questions and responses, and I will not share them with anyone by any form of communication before, during, or after the test administration. I understand that taking the test for someone else may violate the law and subject me to legal penalties. I consent to the collection and processing of personally identifying information I provide, and its subsequent use and disclosure, as described in the ACT Privacy Policy (www.act.org/privacy.html). I also permit ACT to transfer my personally identifying information to the United States, to ACT, or to a third-party service provider, where it will be subject to use and disclosure under the laws of the United States, including being accessible to law enforcement or national security authorities.

2. **Certification:** Copy the italicized certification below, then sign, date, and print your name in the spaces provided.

*I agree to the **Statements** above and certify that I am the person whose information appears on this form.*

Your Signature

Today's Date

Print Your Name

The **ACT**® **Form 1874FPRE**
2020 | 2021

Directions

This booklet contains tests in English, mathematics, reading, and science. These tests measure skills and abilities highly related to high school course work and success in college. **Calculators may be used on the mathematics test only.**

The questions in Tests 1–4 are numbered, and the suggested answers for each question are lettered. On the answer document, the rows of ovals are numbered to match the questions, and the ovals in each row are lettered to correspond to the suggested answers.

For each question, first decide which answer is best. Next, locate on the answer document the row of ovals numbered the same as the question. Then, locate the oval in that row lettered the same as your answer. Finally, fill in the oval completely. Use a soft lead pencil and make your marks heavy and black. **Do not use ink or a mechanical pencil.**

Mark only one answer to each question. If you change your mind about an answer, erase your first mark thoroughly before marking your new answer. For each question, make certain that you mark in the row of ovals with the same number as the question.

Only responses marked on your answer document will be scored. Your score on each test will be based only on the number of questions you answer correctly during the time allowed for that test. You will **not** be penalized for guessing. **It is to your advantage to answer every question even if you must guess.**

You may work on each test **only** when the testing staff tells you to do so. If you finish a test before time is called for that test, you should use the time remaining to reconsider questions you are uncertain about in that test. You may **not** look back to a test on which time has already been called, and you may **not** go ahead to another test. To do so will disqualify you from the examination.

Lay your pencil down immediately when time is called at the end of each test. You may **not** for any reason fill in or alter ovals for a test after time is called for that test. To do so will disqualify you from the examination.

For Test 5, follow the directions on the first page of that test.

Do not fold or tear the pages of your test booklet.

DO NOT OPEN THIS BOOKLET UNTIL TOLD TO DO SO.



ENGLISH TEST

45 Minutes—75 Questions

DIRECTIONS: In the five passages that follow, certain words and phrases are underlined and numbered. In the right-hand column, you will find alternatives for the underlined part. In most cases, you are to choose the one that best expresses the idea, makes the statement appropriate for standard written English, or is worded most consistently with the style and tone of the passage as a whole. If you think the original version is best, choose “NO CHANGE.” In some cases, you will find in the right-hand column a question about the underlined part. You are to choose the best answer to the question.

You will also find questions about a section of the passage, or about the passage as a whole. These questions do not refer to an underlined portion of the passage, but rather are identified by a number or numbers in a box.

For each question, choose the alternative you consider best and fill in the corresponding oval on your answer document. Read each passage through once before you begin to answer the questions that accompany it. For many of the questions, you must read several sentences beyond the question to determine the answer. Be sure that you have read far enough ahead each time you choose an alternative.

PASSAGE I

Mystery Paper Sculptor

Between March and November of 2011, an anonymous donor left intricately¹ crafted paper sculptures at various cultural institutions in Edinburgh, Scotland.

Delighted, each sculpture was left secretly and was later discovered² by staff. The delicate sculptures—streetscapes, plants, and animals—were carved exclusively from the pages and bindings of books. The tiny details in the pieces are awe-inspiring.

The first sculpture discovered—at the Scottish Poetry Library—was a tiny tree formed from a book of verse. Library staff dubbed³ it the “poetree.” The tree sits atop a book. Beneath the tree are the halves of a golden paper egg, each half filled with words clipped from the poem “A Trace of Wings” by Edwin Morgan.

1. Which choice most effectively emphasizes the complexity of the paper sculptures?
 - A. NO CHANGE
 - B. impressively
 - C. terrifically
 - D. superbly
2. F. NO CHANGE
 - G. Each sculpture was left secretly and later discovered by delighted staff.
 - H. Left secretly and later discovered by staff, each sculpture was delighted.
 - J. Secretly delighted, each sculpture was discovered by staff.
3. A. NO CHANGE
 - B. specified
 - C. adorned
 - D. honored

At Edinburgh’s Filmhouse Cinema, a three-
dimensional sculpted scene shows patrons

sitting in a movie theater as horse leaps out of
the screen. At the Scottish Storytelling Centre, a

dragon crafted from the pages of a mystery novel
was found nesting in a window. At the National
Museum of Scotland, a paper tail was spotted emerging
from the spine of Sir Arthur Conan Doyle’s book
The Lost World. Inside, a dinosaur charges through
shredded pages of the open book. More creations
appeared at more than a few additional places where
literature and artifacts are related to books and writing.

Therefore, a total of ten sculptures were bestowed on
special institutions, whose staff are thrilled by their luck.

The creator of these sculptures are not known
because no one has claimed responsibility. So far, that
is. The last gift came with a note in which the mystery
artist reveals her gender. Whatever: whoever created

the art, your intention is clear. Each gift came with a

note expressing special gratitude for “libraries, books,

words, ideas.” 13

4. F. NO CHANGE
G. Cinema, a three-dimensional sculpted, scene
H. Cinema a three-dimensional sculpted scene,
J. Cinema a three-dimensional, sculpted, scene
5. A. NO CHANGE
B. movie theaters as horse’s leaps
C. a movie theater as horses leap
D. movie theater’s as horse leap
6. F. NO CHANGE
G. dragon—crafted from the pages
H. dragon, crafted from the pages,
J. dragon crafted from the pages,
7. A. NO CHANGE
B. a number of additional cultural institutions support-
ing intellectual endeavors dedicated to promoting
C. quite a lot of other cultural institutions character-
ized by loyalty and dedication to
D. several libraries and museums devoted to
8. F. NO CHANGE
G. Eventually,
H. Of course,
J. However,
9. A. NO CHANGE
B. creators of this sculptures are
C. creator of these sculptures is
D. creators of this sculptures is
10. F. NO CHANGE
G. Disregarding the unknown identity of the person
who
H. Without consideration of or concern about whoever
J. Regardless of who
11. A. NO CHANGE
B. whose
C. her
D. our
12. F. NO CHANGE
G. note of gratitude expressing special gratefulness
and thanks
H. thank-you note on each one expressing special
thanks
J. thankful note expressing special thanks
13. If the writer were to delete the preceding sentence, the
paragraph would primarily lose a statement that:
A. suggests the essay writer knows the identity of the
artist.
B. explains why the artist created the sculptures.
C. proves the artist is a woman.
D. indicates the artist is a librarian.



Ironically, the creator of these exquisite sculptures who destroyed books—cutting them
14

up with refashioning them into elaborate works
15
of art—as “a tiny gesture in support of the special places.” The mystery artist celebrated the magic of those places and, at the same time, made some magic.

14. F. NO CHANGE
G. for whom books were destroyed—
H. as she destroyed books—
J. destroyed books—
15. A. NO CHANGE
B. and
C. nor
D. so

PASSAGE II

Building a Cork Boat

[1]

As a young boy, John Pollack dreamed of building a full-size boat made entirely of bottle corks. [A] At the age of thirty-four, Pollack sailed his dream down the Douro River in Portugal. It all began as Pollack is likely to point out, with
16
a single cork.

[2]

To amass the staggering number of corks needed to construct the boat, 165,231 in all, Pollack convinced the
17
staff, of several restaurants in Washington, DC, to donate
17
discarded corks for his cause. [B] Pollack eventually received cork donations from a cork-importing company
18
based in Portugal.

[3]

Constructing the boat introduced a challenge of another variety. Pollack finally tried gluing the
19
corks together to create stackable logs, but he soon realized that this strategy was too time-consuming. [C]

16. F. NO CHANGE
G. began, as Pollack is likely to point out,
H. began, as Pollack is likely to point out
J. began as Pollack is likely to point out
17. A. NO CHANGE
B. boat (165,231) in all, Pollack convinced the staff of several restaurants,
C. boat—165,231 in all—Pollack convinced the staff of several restaurants
D. boat, 165,231, in all, Pollack convinced the staff of several restaurants
18. F. NO CHANGE
G. donations, from a cork-importing company,
H. donations, from a cork-importing company
J. donations from a cork-importing company,
19. A. NO CHANGE
B. next
C. first
D. also

He calculated that it would have taken him and one other person more than a year's worth of eight-hour days to glue all the corks needed for the boat.

[4]

Piles of corks threatened to take over Pollack's apartment. He used a foam template to assemble a

group of corks into a pretty interesting shape. He then fastened each cluster of corks with multiple rubber bands and encased each cluster in fishnet.

To bind clusters together and shaping them into flexible columns proved to be both efficient and architecturally

sound. Dozens of friends expedited this proper process by volunteering to help with the construction of the boat.

[5]

The completed cork boat, which resembled a Viking ship, was more impressive than Pollack had ever imagined.

[D] In his childhood imagination, he had saw himself floating the boat in his neighbor's swimming pool. But

at a length of twenty-two feet, Pollack's masterpiece

was best suited with a grand voyage. In 2002, the

company that had donated thousands of corks to Pollack's project sponsored the vessel's launch in Portugal. There, during the boat's successful journey on the Douro River, in the country of Portugal, Pollack's dream was fully realized.

20. F. NO CHANGE
G. than a year's
H. than a years'
J. then a years

21. Which choice most effectively introduces the paragraph?
A. NO CHANGE
B. Over the course of many months, Pollack convinced people to help.
C. Pollack was afraid that he would have to put his cork boat dream on hold.
D. After a series of trials, Pollack devised a workable strategy.

22. Which choice provides the most specific description of the assembled groups of corks?
F. NO CHANGE
G. hexagonal
H. certain
J. DELETE the underlined portion.

23. A. NO CHANGE
B. Binding clusters together and to shape
C. Binding clusters together and shaping
D. Binding clusters together and shape

24. Which choice best indicates that constructing the cork boat was challenging?
F. NO CHANGE
G. authentic
H. rigorous
J. grim

25. A. NO CHANGE
B. had seen himself
C. seen himself
D. saw him

26. F. NO CHANGE
G. length, of twenty-two feet,
H. length of twenty-two feet;
J. length of twenty-two feet

27. A. NO CHANGE
B. most well suited to
C. better suited for
D. best suited as

28. F. NO CHANGE
G. company, which
H. company whom
J. company, who

29. A. NO CHANGE
B. River, which is a river in Portugal,
C. River in Portugal,
D. River,



Question 30 asks about the preceding passage as a whole.

30. The writer wants to add the following sentence to the essay:

“Remember,” he would say as he made his daily pickups, “every cork counts.”

The sentence would most logically be placed at:

- F. Point A in Paragraph 1.
- G. Point B in Paragraph 2.
- H. Point C in Paragraph 3.
- J. Point D in Paragraph 5.

PASSAGE III

Lightning in the Sand

As my friend Anna and I walked the sand dunes of southeastern New Mexico, she told me that she hoped we’d find a fulgurite, one as translucent white as the southeastern New Mexico sands around us. A fulgurite³¹—whose name stems from the Latin word *fulgur*, which means “thunderbolt”—is a hollow silica glass tube formed when lightning strikes sand. A fulgurite is created in one explosive second by fusion and pressure as sand heated by a lightning blast melts, and becomes glass.³² Commonly called “petrified lightning,” a fulgurite places³³ the shape of a miniature lightning bolt into the earth, often branching deep into the ground.

Anna told me that I had possibly seen a small fragment of a fulgurite before, without realizing I had, on a beach. She explained though that even experts³⁴ are rarely able to locate a fully intact fulgurite.

31. A. NO CHANGE
 B. and nearly transparent to the eye almost as the white sands of these dunes.
 C. as these sands.
 D. DELETE the underlined portion and end the sentence with a period.
32. F. NO CHANGE
 G. sand heated (by a lightning blast) melts
 H. sand, heated by a lightning blast melts,
 J. sand heated by a lightning blast melts
33. Which choice best builds on the preceding sentence by emphasizing the dramatic nature of the mark a fulgurite leaves on the earth?
 A. NO CHANGE
 B. sketches
 C. burns
 D. sends
34. F. NO CHANGE
 G. explained, though, that even experts
 H. explained though that, even experts,
 J. explained, though that even experts



The thin, brittle glass tubes break easily. Occasionally,
³⁵
 after strong, sustained winds have shifted desert sands,

while an unbroken, previously buried fulgurite will be
³⁶
 revealed, showing as a tube protruding from the ground.

37 I scanned the area, hopeful that I'd see a tube newly

uncovered. Anna made clear that we'd be lucky to come
³⁸
 upon a small piece of fulgurite, just a few inches long.

Anna had shown me fulgurites she had found
 on other trips. Their colors ranged from black to
 brown to green, corresponding to the color of the
 sand in which she had discovered them. I wasn't
 surprised that I'd never recognized fulgurites on
 any beach: no one had ever told me what to look for.
³⁹

35. Given that all the statements are true, which one provides the most relevant information at this point in the essay?
- A. NO CHANGE
 - B. Human-made fulgurites are not any easier to excavate than naturally occurring fulgurites.
 - C. A fulgurite is not a geode (a crystal-lined stone), though the two are often confused.
 - D. Still, pieces of fulgurite can be worked into jewelry.
36. F. NO CHANGE
 G. however
 H. so
 J. DELETE the underlined portion.
37. Which of the following sentences, if added here, best connects the preceding sentence to the information that follows in the paragraph?
- A. Anna told me that there had been a brief rain shower in the area the day before.
 - B. I could see bright pink sand verbenas blooming in the distance.
 - C. Swift winds were moving the white sands that day.
 - D. Dig carefully.
38. F. NO CHANGE
 G. uncovered, I focused my gaze on the sands in the distance.
 H. uncovered, I looked closely.
 J. had it been uncovered.
39. Which choice most effectively concludes this sentence and leads into the information that follows in the paragraph?
- A. NO CHANGE
 - B. I focus on looking for seashells, sand dollars, and smooth rocks when I'm walking the sands.
 - C. usually, I'm not in the mood for a science project when I'm on vacation.
 - D. on their surface, they look like pieces of tree branches.

1



1

Their interiors, though, are smooth, clear glass stained
40

with tiny bubbles trapped formed by air and moisture
41
during the rapid cooling of the melted sand after the lightning strike.

We continued exploring the dunes.

Anna laughed and said we needed only to stop at the local gift shop to unearth
42

our treasure. 43 But given

our luck finding fulgurites in
44

deserts and on beaches, she wanted to
45
keep searching to find our own piece of bright, white lightning in the sand.

40. Which choice makes clearest the light, sporadic arrangement of the bubbles in the glass?

- F. NO CHANGE
- G. pointed
- H. speckled
- J. covered

41. The best placement for the underlined portion would be:

- A. where it is now.
- B. after the word *bubbles*.
- C. after the word *during*.
- D. after the word *cooling*.

42. F. NO CHANGE
G. for having unearthed
H. that would unearth
J. unearthing

43. If the writer deleted the preceding sentence, the essay would primarily lose a:

- A. bluntly critical comment that makes clear Anna's frustration with trying to find a white fulgurite in the sand dunes of New Mexico.
- B. mildly scolding response by Anna to the narrator's impatience with the time and attention it might take for them to find a white fulgurite.
- C. light moment in the form of a good-natured joke by Anna about how easy it could be to find a white fulgurite.
- D. moment of excitement when Anna remembers that they could easily find a white fulgurite at the local gift shop.

44. F. NO CHANGE
G. her
H. my
J. their

45. Which of the following alternatives to the underlined portion would provide the essay with new information?

- A. beaches in Florida, Utah, California, and Nevada,
- B. beaches, but so far not this day in the New Mexico sands,
- C. beaches, in other words, sandy locales,
- D. beaches, even a green fulgurite,



PASSAGE IV

Planet Earth's Windiest Observatory

[1]

Step outside into blowing snow, freezing fog, 45 mph winds with hurricane-force gusts, and a -50° Fahrenheit windchill. Welcome to a typical January day at the Mount Washington Observatory. [A] Weather conditions at this facility, which sits atop its namesake's 6,288-foot peak

in New Hampshire, has earned the location the nickname "Home of the World's Worst Weather."

[2]

[B] Though somewhat diminutive compared to other mountains, (Colorado's Pikes Peak, for example, is more than twice its height), Mount Washington is the tallest peak in the Presidential Range. The peak stands at the confluence of three major storm tracks,

and its steep slopes force rising winds to accelerate. In fact, scientists in 1934 recorded a surface wind speed (of 231 mph): one of the fastest ever recorded.

46. F. NO CHANGE

- G. their
- H. these
- J. it's

47. A. NO CHANGE

- B. Hampshire, have earned
- C. Hampshire has earned
- D. Hampshire, earns

48. F. NO CHANGE

- G. mountains (Colorado's Pikes Peak,
- H. mountains, (Colorado's Pikes Peak
- J. mountains (Colorado's Pikes Peak

49. Given that all the choices are accurate, which one best uses a comparison to emphasize that the weather on Mount Washington can be extreme?

- A. NO CHANGE
- B. is much colder at the summit than at the base of the mountain.
- C. has an average midwinter temperature of 5° Fahrenheit.
- D. has weather that rivals that of Antarctica.

50. F. NO CHANGE

- G. its steep slopes that force
- H. if its steep slopes force
- J. its steep slopes forcing

51. A. NO CHANGE

- B. speed of 231 mph—
- C. speed of 231 mph;
- D. speed, of 231 mph,



[3]

In one study, researchers used a laser beam and advanced optical techniques to measure winds. The observatory also keeps detailed weather records that scientists have used to track climate trends and weather patterns. The observatory has also advanced scientists'

52

understanding of clouds, of ice physics, and the atmosphere.

53

[4]

To conduct all this research, staff are on-site year-round. Observers, who work several twelve-hour shifts over the course of a week. To change personnel in winter, though, crews ascend the mountain in a

55

vehicle, gripping the snow using revolving tracks similar to those on a military tank. Observers go outside every hour to gather data, which they send to the National Weather Service. [C]

56

[5]

Though isolated, the Mount Washington Observatory offers weather enthusiasts many ways to get involved. The observatory takes volunteers and accepts interns, who assist with research. The bold can take part in educational trips to the summit in winter. [D] For those who are planning to make a trip to Mount Washington, the observatory has a website with live video feeds of the summit.

57

58

52. **F.** NO CHANGE
G. In addition, the
H. Additionally, the
J. Also, the
53. **A.** NO CHANGE
B. furthered our knowledge of ice physics,
C. as well as ice physics,
D. ice physics,

54. **F.** NO CHANGE
G. Observers who work
H. Observers work
J. Observers, working

55. **A.** NO CHANGE
B. winter, of course,
C. winter, however,
D. winter,

56. **F.** NO CHANGE
G. vehicle while gripping
H. vehicle that grips
J. vehicle and grip

57. **A.** NO CHANGE
B. research and the
C. research but the
D. research, the

58. Which choice contrasts most directly with the other ways to get involved at the observatory that are mentioned in the paragraph?
F. NO CHANGE
G. prefer a warm recliner to an icy peak,
H. conduct weather research,
J. love the outdoors,



Questions 59 and 60 ask about the preceding passage as a whole.

59. The writer is considering adding the following sentence to the essay:
- This information is used to help create regional weather forecasts.
- If the writer were to add this sentence, it would most logically be placed at:
- A. Point A in Paragraph 1.
 B. Point B in Paragraph 2.
 C. Point C in Paragraph 4.
 D. Point D in Paragraph 5.
60. Suppose the writer’s main purpose had been to describe how mountain ranges affect weather patterns. Would this essay accomplish that purpose?
- F. Yes, because it discusses how the slopes of Mount Washington increase wind speeds.
 G. Yes, because it describes the weather conditions on the summit of Mount Washington.
 H. No, because it outlines the history of the Mount Washington Observatory.
 J. No, because it provides an overview of the Mount Washington Observatory and its research.

PASSAGE V

The Real McCoy

[1]

“It’s the real McCoy.” You might have heard this expression before, but who—or what—is a McCoy, real or otherwise? The saying has been used for generations to declare its’ the genuine article, the original and best.

[A] While its origin is disputed, many people believe the expression was inspired by the inventions of a Canadian American engineer named, Elijah McCoy. McCoy, a railroad worker who, as a teenager, had formally studied mechanical engineering, revolutionized railroad and factory operations, affecting both incredibly with his dozens of patented products.

61. A. NO CHANGE
 B. its something that’s
 C. that something is
 D. that its
62. F. NO CHANGE
 G. American engineer named
 H. American, engineer named,
 J. American, engineer named
63. A. NO CHANGE
 B. operations, changing both of these industries fundamentally
 C. operations, so that they would never be the same
 D. operations



[2]

While working for the Michigan Central Railroad in the 1870s, then McCoy was assigned to work on the wheel

64

bearings and axles of trains. [65] Trains needed to come to a halt after only a few miles of travel so that the moving parts could be oiled by hand—a tedious, time-consuming process. McCoy invented a device that released oil while

a train was in motion, substantially reducing the number

66

of maintenance stops had the effect of making travel more efficient. [B] This automatic lubricating device became the first of his fifty-seven patents.

[3]

McCoy applied the principles of this invention to other engineering challenges. Factories in the late 1800s, for example, increasingly relied on steam engines to

68

power factory machines. As with trains, therefore many of the machines' parts had to be oiled manually.

69

McCoy, recognizing the similarities between train wheels and factory machines, designed automated oilers for steam engines. These innovations allowed

70

64. F. NO CHANGE
 G. with that company
 H. during this time
 J. DELETE the underlined portion.
65. In the preceding sentence, the writer is considering revising the phrase “assigned to work on” to “responsible for oiling.” Given that the revised phrase is accurate, should the writer make this revision?
 A. Yes, because the revision specifically describes the procedures McCoy had to follow as he maintained the wheel bearings and axles of trains.
 B. Yes, because the revision provides a clearer connection between McCoy’s main task as a railroad worker and his first patented device.
 C. No, because the revision doesn’t indicate whether McCoy chose to oil the wheel bearings and axles of trains by hand.
 D. No, because the revision doesn’t make clear whether McCoy had worked on trains for other railroad companies.
66. F. NO CHANGE
 G. lessening the frequency of number
 H. subtracting the amount
 J. lowering the amount
67. A. NO CHANGE
 B. and making
 C. helping to make
 D. made
68. F. NO CHANGE
 G. subsequently,
 H. regardless,
 J. however,
69. A. NO CHANGE
 B. the problem being
 C. in that
 D. DELETE the underlined portion.
70. F. NO CHANGE
 G. McCoy would recognize
 H. McCoy, a recognition of
 J. McCoy recognized



factories to give machines a certain timelessness,

71

increasing factory productivity and, as a result, profits. 72

[4]

McCoy's inventions were an instant success. [C] Not surprisingly, other inventors inundated the market with similar—and usually inferior—devices. [D] Supposedly, factory owners who wanted a product proven to do it⁷³ would ask if their purchase was “the real McCoy.” McCoy's inventions would continue to benefit industries in the United States well into the twentieth century, as his⁷⁴ name became synonymous with quality and authenticity.

74

71. Which choice offers the clearest and most precise information about how the operation of factory machines changed as a result of McCoy's innovations?
- A. NO CHANGE
 - B. rethink operations,
 - C. run machines continuously,
 - D. use machines differently,
72. The writer is considering deleting the following phrase from the preceding sentence (ending the sentence with a period):
- and, as a result, profits.
- Should the writer make this deletion?
- F. Yes, because the phrase shifts the focus of the paragraph from the use of McCoy's inventions in factories to factory disputes.
 - G. Yes, because the phrase suggests that factory owners were more interested in profits than in which of McCoy's devices would best meet their needs.
 - H. No, because the phrase is relevant to the paragraph's discussion of the positive effects that the use of McCoy's inventions had in factories.
 - J. No, because the phrase makes clear that the successful use of McCoy's inventions in factories led to higher wages for factory workers.
73. A. NO CHANGE
B. lend itself to superiority
C. give off the best result
D. work well
74. Which choice best concludes the essay by reiterating its main idea?
- F. NO CHANGE
 - G. so, not surprisingly, in 2001 McCoy was inducted into the National Inventors Hall of Fame, located in Alexandria, Virginia.
 - H. even having applications in the booming aluminum manufacturing industry of the 1940s.
 - J. making this story, for so many reasons, “the genuine article.”

Question 75 asks about the preceding passage as a whole.

75. The writer is considering adding the following true statement to the essay:
- The imitators expected that the price of their products—often significantly lower than the price of McCoy's devices—would attract buyers, but price didn't seem to matter most.
- If the writer were to add this statement, it would most logically be placed at:
- A. Point A in Paragraph 1.
 - B. Point B in Paragraph 2.
 - C. Point C in Paragraph 4.
 - D. Point D in Paragraph 4.

END OF TEST 1

STOP! DO NOT TURN THE PAGE UNTIL TOLD TO DO SO.



MATHEMATICS TEST

60 Minutes—60 Questions

DIRECTIONS: Solve each problem, choose the correct answer, and then fill in the corresponding oval on your answer document.

Do not linger over problems that take too much time. Solve as many as you can; then return to the others in the time you have left for this test.

You are permitted to use a calculator on this test. You may use your calculator for any problems you choose,

but some of the problems may best be done without using a calculator.

Note: Unless otherwise stated, all of the following should be assumed.

1. Illustrative figures are NOT necessarily drawn to scale.
2. Geometric figures lie in a plane.
3. The word *line* indicates a straight line.
4. The word *average* indicates arithmetic mean.

1. Marcus's favorite casserole recipe requires 3 eggs and makes 6 servings. Marcus will modify the recipe by using 5 eggs and increasing all other ingredients in the recipe proportionally. What is the total number of servings the modified recipe will make?

- A. 6
- B. 8
- C. 10
- D. 12
- E. 15

2. The 35-member History Club is meeting to choose a student government representative. The members decide that the representative, who will be chosen at random, CANNOT be any of the 3 officers of the club. What is the probability that Hiroko, who is a member of the club but NOT an officer, will be chosen?

- F. 0
- G. $\frac{4}{35}$
- H. $\frac{1}{35}$
- J. $\frac{1}{3}$
- K. $\frac{1}{32}$

3. For what value of x is the equation $2^{2x+7} = 2^{15}$ true?

- A. 2
- B. 4
- C. 11
- D. 16
- E. 44

4. Let the function f be defined as $f(x) = 5x^2 - 7(4x + 3)$. What is the value of $f(3)$?

- F. -18
- G. -26
- H. -33
- J. -60
- K. -75

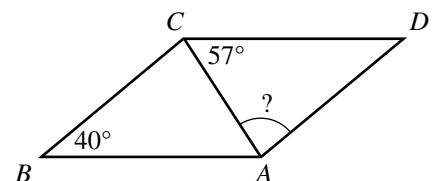
5. A wallet containing 5 five-dollar bills, 7 ten-dollar bills, and 8 twenty-dollar bills is found and returned to its owner. The wallet's owner will reward the finder with 1 bill drawn randomly from the wallet. What is the probability that the bill drawn will be a twenty-dollar bill?

- A. $\frac{1}{20}$
- B. $\frac{4}{51}$
- C. $\frac{1}{8}$
- D. $\frac{2}{5}$
- E. $\frac{2}{3}$

6. The ABC Book Club charges a \$40 monthly fee, plus \$2 per book read in that month. The Easy Book Club charges a \$35 monthly fee, plus \$3 per book read in that month. For each club, how many books must be read in 1 month for the total charges from each club to be equal?

- F. 1
- G. 4
- H. 5
- J. 6
- K. 75

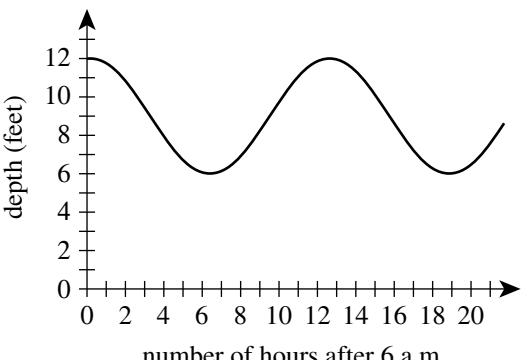
7. In parallelogram $ABCD$ below, \overline{AC} is a diagonal, the measure of $\angle ABC$ is 40° , and the measure of $\angle ACD$ is 57° . What is the measure of $\angle CAD$?



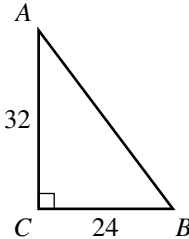
- A. 40°
- B. 57°
- C. 77°
- D. 83°
- E. 97°

GO ON TO THE NEXT PAGE.



8. When $x = \frac{1}{2}$, what is the value of $\frac{8x-3}{x}$?
- F. $\frac{1}{2}$
 G. 2
 H. $\frac{5}{2}$
 J. 5
 K. 10
9. In the standard (x,y) coordinate plane, what is the midpoint of the line segment that has endpoints $(3,8)$ and $(1,-4)$?
- A. $(-2,-12)$
 B. $(-1, -6)$
 C. $(\frac{11}{2}, -\frac{3}{2})$
 D. $(2, 2)$
 E. $(4,-12)$
10. The fluctuation of water depth at a pier is shown in the figure below. One of the following values gives the positive difference, in feet, between the greatest water depth and the least water depth shown in this graph. Which value is it?
- 
- F. 3
 G. 6
 H. 9
 J. 12
 K. 19
11. What is the slope of the line through $(-2,1)$ and $(2,-5)$ in the standard (x,y) coordinate plane?
- A. $\frac{3}{2}$
 B. 1
 C. -1
 D. $-\frac{3}{2}$
 E. -4
12. In Cherokee County, the fine for speeding is \$17 for each mile per hour the driver is traveling over the posted speed limit. In Cherokee County, Kirk was fined \$221 for speeding on a road with a posted speed limit of 30 mph. Kirk was fined for traveling at what speed, in miles per hour?
- F. 13
 G. 17
 H. 43
 J. 47
 K. 60
13. What is the sum of the solutions of the 2 equations below?
- $$\begin{aligned} 8x &= 12 \\ 2y + 10 &= 22 \end{aligned}$$
- A. $2\frac{2}{5}$
 B. $7\frac{1}{2}$
 C. 9
 D. 10
 E. $17\frac{1}{2}$
14. The average of 5 distinct scores has the same value as the median of the 5 scores. The sum of the 5 scores is 420. What is the sum of the 4 scores that are NOT the median?
- F. 315
 G. 320
 H. 336
 J. 350
 K. 360
15. What is the value of the expression below?
- $$| |-8 + 4| - |3 - 9| |$$
- A. -18
 B. -2
 C. 0
 D. 2
 E. 18
16. Which of the following expressions is equivalent to $x^{\frac{2}{3}}$?
- F. $\frac{x^2}{3}$
 G. $\frac{x(2)}{3}$
 H. $\sqrt{x^3}$
 J. $\sqrt[3]{x}$
 K. $\sqrt[3]{x^2}$



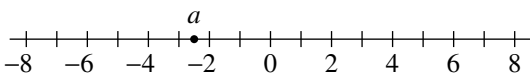
17. In the standard (x,y) coordinate plane, what is the slope of the line given by the equation $4x = 7y + 5$?
- A. $-\frac{4}{7}$
 B. $\frac{4}{7}$
 C. $\frac{7}{4}$
 D. 4
 E. 7
18. For which of the following conditions will the sum of integers m and n *always* be an odd integer?
- F. m is an odd integer.
 G. n is an odd integer.
 H. m and n are both odd integers.
 J. m and n are both even integers.
 K. m is an odd integer and n is an even integer.
19. The lengths of the 2 legs of right triangle $\triangle ABC$ shown below are given in inches. The midpoint of \overline{AB} is how many inches from A ?
- 
- A. 16
 B. 20
 C. 21
 D. 28
 E. 40
20. In $\triangle DEF$, the length of \overline{DE} is $\sqrt{30}$ inches, and the length of \overline{EF} is 3 inches. If it can be determined, what is the length, in inches, of \overline{DF} ?
- F. 3
 G. $\sqrt{30}$
 H. $\sqrt{33}$
 J. $\sqrt{39}$
 K. Cannot be determined from the given information
21. Laura plans to paint the 8-foot-high rectangular walls of her room, and before she buys paint she needs to know the area of the wall surface to be painted. Two walls are 10 feet wide, and the other 2 walls are 15 feet wide. The combined area of the 1 window and the 1 door in her room is 60 square feet. What is the area, in square feet, of the wall surface Laura plans to paint?
- A. 200
 B. 340
 C. 360
 D. 390
 E. 400
22. The length of a rectangle is 5 inches longer than the width. The perimeter of the rectangle is 40 inches. What is the width of the rectangle, in inches?
- F. 7.5
 G. 8
 H. 15
 J. 16
 K. 17.5
23. 8% of 60 is $\frac{1}{5}$ of what number?
- A. 0.96
 B. 12
 C. 24
 D. 240
 E. 3,750
24. Armin is trying to decide whether to buy a season pass to his college basketball team's 20 home games this season. The cost of an individual ticket is \$14, and the cost of a season pass is \$175. The season pass will admit Armin to any home basketball game at no additional cost. What is the minimum number of home basketball games Armin must attend this season in order for the cost of a season pass to be less than the total cost of buying an individual ticket for each game he attends?
- F. 8
 G. 9
 H. 12
 J. 13
 K. 20
25. $\frac{4.8 \times 10^{-7}}{1.6 \times 10^{-11}} = ?$
- A. 3.0×10^4
 B. 3.0×10^{-4}
 C. 3.0×10^{-18}
 D. 3.2×10^{18}
 E. 3.2×10^4
26. A circle in the standard (x,y) coordinate plane has center $C(-1,2)$ and passes through $A(2,6)$. Line segment \overline{AB} is a diameter of this circle. What are the coordinates of point B ?
- F. $(-6,-2)$
 G. $(-5,-1)$
 H. $(-4,-2)$
 J. $(4, 2)$
 K. $(5,10)$
27. Which of the following expressions is a factor of $x^3 - 64$?
- A. $x - 4$
 B. $x + 4$
 C. $x + 64$
 D. $x^2 + 16$
 E. $x^2 - 4x + 16$



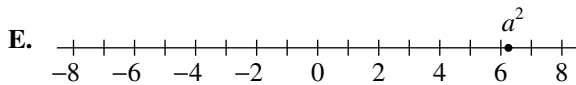
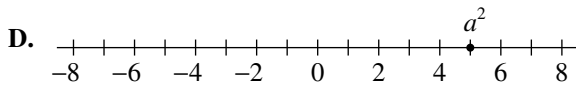
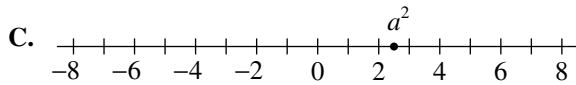
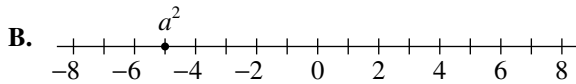
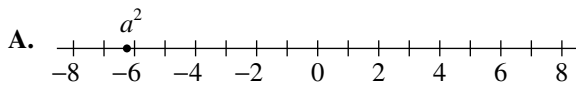
28. The average of a list of 4 numbers is 90.0. A new list of 4 numbers has the same first 3 numbers as the original list, but the fourth number in the original list is 80, and the fourth number in the new list is 96. What is the average of this new list of numbers?

F. 90.0
G. 91.5
H. 94.0
J. 94.5
K. 94.8

29. The number a is located at -2.5 on the number line below.



One of the following number lines shows the location of a^2 . Which number line is it?



30. Maria ordered a pizza. She ate only $\frac{2}{9}$ of it and gave the remaining pizza to her 3 brothers. What fraction of the whole pizza will each of Maria's brothers receive, if they share the remaining pizza equally?

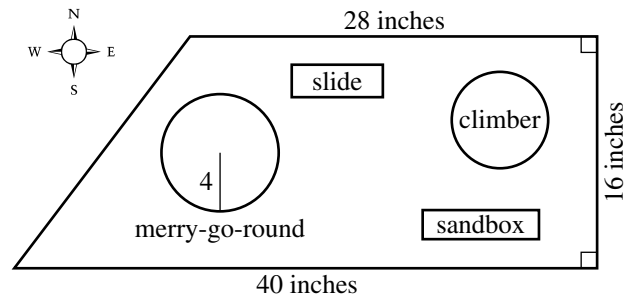
F. $\frac{7}{9}$
G. $\frac{3}{7}$
H. $\frac{1}{3}$
J. $\frac{7}{27}$
K. $\frac{2}{27}$

31. The number 1,001 is the product of the prime numbers 7, 11, and 13. Knowing this, what is the prime factorization of 30,030?

A. $3 \cdot 7 \cdot 10 \cdot 13$
B. $30 \cdot 7 \cdot 11 \cdot 13$
C. $2 \cdot 5 \cdot 7 \cdot 11 \cdot 13$
D. $3 \cdot 7 \cdot 10 \cdot 11 \cdot 13$
E. $2 \cdot 3 \cdot 5 \cdot 7 \cdot 11 \cdot 13$

Use the following information to answer questions 32–34.

Mikea, an intern with the Parks and Recreation Department, is developing a proposal for the new trapezoidal Springdale Park. The figure below shows her scale drawing of the proposed park with 3 side lengths and the radius of the merry-go-round given in inches. In Mikea's scale drawing, 1 inch represents 1.5 feet.



32. What is the area, in square inches, of the scale drawing of the park?

F. 448
G. 544
H. 640
J. 672
K. 1,088

33. Mikea's proposal includes installing a fence on the perimeter of the park. What is the perimeter, in feet, of the park?

A. 84
B. 88
C. 104
D. 126
E. 156

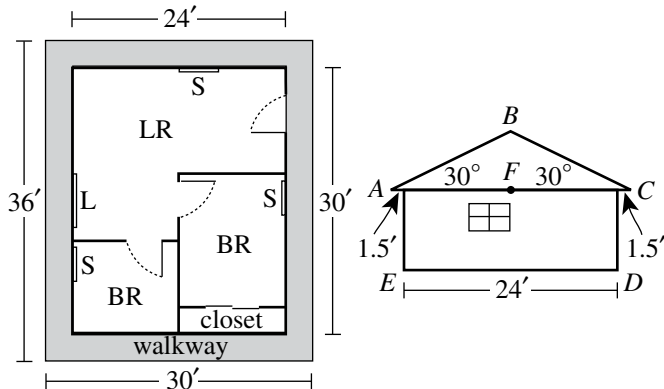
34. The length of the south side of the park is what percent of the length of the north side?

F. 112%
G. 124%
H. $142\frac{6}{7}\%$
J. 175%
K. 250%



Use the following information to answer questions 35–37.

The Smith family is planning to build a 3-room cabin which consists of 2 bedrooms (BR) and 1 living room (LR). Shown below are the rectangular floor plan (left figure) and a side view of the cabin (right figure). In the side view, the roof forms an isosceles triangle ($\triangle ABC$), the walls are perpendicular to the level floor (\overline{ED}), $\overline{AC} \parallel \overline{ED}$, F is the midpoint of \overline{AC} , and $\overline{BF} \perp \overline{AC}$.



During the week the Smiths plan to roof the cabin, there is a 20% chance of rain each day.

35. Mr. Smith plans to build a 3-foot-wide walkway around the outside of the cabin, as shown in the floor plan. What will be the area, in square feet, of the top surface of the walkway?
- A. 171
B. 324
C. 360
D. 396
E. 720
36. Mrs. Smith will install a ceiling fan in each room of the cabin and will place curtains over the 4 windows. Each of the ceiling fans has a price of \$52.00. The price of curtains for each small window (S) is \$39.50, and the price of curtains for the large window (L) is twice that for the small window. Based on this information, which of the following values is closest to the total price Mrs. Smith will pay for curtains and ceiling fans?
- F. \$262
G. \$302
H. \$341
J. \$354
K. \$393

37. Mr. and Mrs. Smith plan to roof the cabin on 2 consecutive days. Assuming that the chance of rain is independent of the day, what is the probability that it will rain both days?

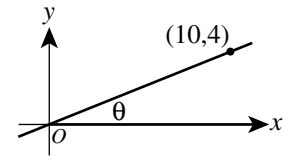
A. 0.04
B. 0.08
C. 0.16
D. 0.20
E. 0.40

38. Which of the following expressions, when evaluated, equals an irrational number?

F. $\frac{\sqrt{2}}{\sqrt{8}}$
G. $\frac{\sqrt{8}}{\sqrt{2}}$
H. $(\sqrt{8})^2$
J. $\sqrt{2} \times \sqrt{8}$
K. $\sqrt{2} + \sqrt{8}$

39. A line through the origin and (10,4) is shown in the standard (x,y) coordinate plane below. The acute angle between the line and the positive x -axis has measure θ . What is the value of $\tan \theta$?

A. $\frac{\sqrt{29}}{2}$
B. $\frac{2}{\sqrt{29}}$
C. $\frac{5}{\sqrt{29}}$
D. $\frac{2}{5}$
E. $\frac{5}{2}$



40. The equation $|2x - 8| + 3 = 5$ has 2 solutions. Those solutions are equal to the solutions to which of the following pairs of equations?

F. $2x - 5 = 5$
 $-2x - 5 = -5$
G. $2x - 8 = 2$
 $-2x - 8 = 2$
H. $2x - 8 = 8$
 $-(2x - 8) = 8$
J. $2x - 8 = 2$
 $-(2x - 8) = 8$
K. $2x - 8 = 2$
 $-(2x - 8) = 2$



41. The frequency chart below shows the cumulative number of Ms. Hernandez's science students whose test scores fell within certain score ranges. All test scores are whole numbers.

Score range	Cumulative number of students
65–70	12
65–80	13
65–90	19
65–100	21

How many students have a test score in the interval 71–80 ?

- A. 1
B. 6
C. 8
D. 12
E. 13
42. The number of decibels, d , produced by an audio source can be modeled by the equation $d = 10 \log\left(\frac{I}{K}\right)$, where I is the sound intensity of the audio source and K is a constant. How many decibels are produced by an audio source whose sound intensity is 1,000 times the value of K ?
- F. 4
G. 30
H. 40
J. 100
K. 10,000
43. Mario plays basketball on a town league team. The table below gives Mario's scoring statistics for last season. How many points did Mario score playing basketball last season?

Type of shot	Number attempted	Percent successful
1-point free throw	80	75%
2-point field goal	60	90%
3-point field goal	60	25%

- A. 129
B. 190
C. 213
D. 330
E. 380

44. The graph of $y = |x - 6|$ is in the standard (x, y) coordinate plane. Which of the following transformations, when applied to the graph of $y = |x|$, results in the graph of $y = |x - 6|$?

- F. Translation to the right 6 coordinate units
G. Translation to the left 6 coordinate units
H. Translation up 6 coordinate units
J. Translation down 6 coordinate units
K. Reflection across the line $x = 6$

45. Toby wants to find the volume of a solid toy soldier. He fills a rectangular container 8 cm long, 6 cm wide, and 10 cm high with water to a depth of 4 cm. Toby totally submerges the toy soldier in the water. The height of the water with the submerged toy soldier is 6.6 cm. Which of the following is closest to the volume, in cubic centimeters, of the toy soldier?

- A. 125
B. 156
C. 192
D. 208
E. 317

46. A box in the shape of a cube has an interior side length of 18 inches and is used to ship a right circular cylinder with a radius of 6 inches and a height of 12 inches. The interior of the box not occupied by the cylinder is filled with packing material. Which of the following numerical expressions gives the number of cubic inches of the box filled with packing material?

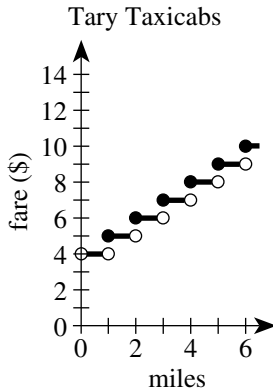
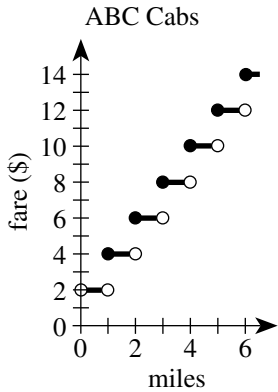
- F. $6(18)^2 - 2\pi(6)(12) - 2\pi(6)^2$
G. $6(18)^2 - 2\pi(6)(12)$
H. $18^3 - \pi(6)(12)^2$
J. $18^3 - \pi(6)^2(12)$
K. $18^3 - \pi(12)^3$

47. A room has a rectangular floor that is 15 feet by 21 feet. What is the area of the floor in square yards ?

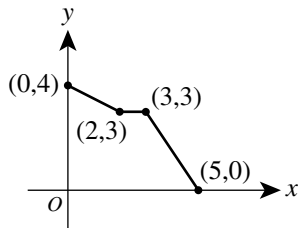
- A. 24
B. 35
C. 36
D. 105
E. 144



48. ABC Cabs and Tary Taxicabs both have an initial fare of a whole number of dollars for 1 passenger. The fare increases a whole number of dollars at each whole number of miles traveled. The graphs below show the 1-passenger fares, in dollars, for both cab companies for trips up to 6 miles. When the fares of the 2 cab companies are compared, what is the cheaper fare for a 5-mile trip?



- F. \$ 8
 G. \$ 9
 H. \$10
 J. \$11
 K. \$12
49. The graph of a function $y = f(x)$ consists of 3 line segments. The graph and the coordinates of the endpoints of the 3 line segments are shown in the standard (x,y) coordinate plane below. What is the area, in square coordinate units, of the region bounded by the graph of $y = f(x)$, the positive y -axis, and the positive x -axis?



- A. 10
 B. 13
 C. 14
 D. 15
 E. 20
50. The sum of 2 positive numbers is 151. The lesser number is 19 more than the square root of the greater number. What is the value of the greater number minus the lesser number?
- F. 19
 G. 66
 H. 85
 J. 91
 K. 121

51. The list of numbers 41, 35, 30, X , Y , 15 has a median of 25. The mode of the list of numbers is 15. To the nearest whole number, what is the mean of the list?
- A. 20
 B. 25
 C. 26
 D. 27
 E. 30

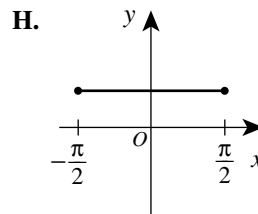
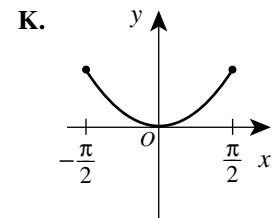
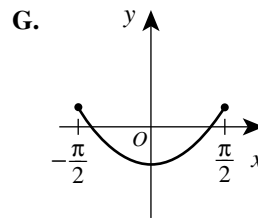
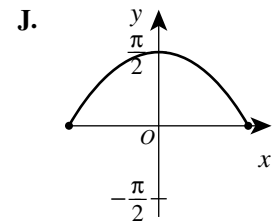
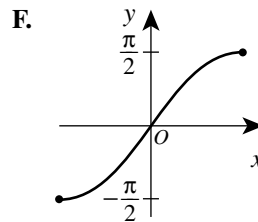
52. You are given the following system of equations:

$$y = x^2$$

$$rx + sy = t$$

where r, s , and t are integers. For which of the following will there be more than one (x,y) solution, with real-number coordinates, for the system?

- F. $r^2 + 4st > 0$
 G. $s^2 - 4rt > 0$
 H. $r^2 - 4st < 0$
 J. $s^2 - 4rt < 0$
 K. $s^2 + 4rt < 0$
53. The 3rd and 4th terms of an arithmetic sequence are 13 and 18, respectively. What is the 50th term of the sequence?
- A. 248
 B. 250
 C. 253
 D. 258
 E. 263
54. One of the following graphs in the standard (x,y) coordinate plane is the graph of $y = \sin^2 x + \cos^2 x$ over the domain $-\frac{\pi}{2} \leq x \leq \frac{\pi}{2}$. Which one?





55. What is the period of the function $f(x) = \csc(4x)$?
- A. π
 B. 2π
 C. 4π
 D. $\frac{\pi}{4}$
 E. $\frac{\pi}{2}$
56. At the school carnival, Mike will play a game in which he will toss a penny, a nickel, and a dime at the same time. He will be awarded 3 points for each coin that lands with heads faceup. Let the random variable x represent the total number of points awarded on any toss of the coins. What is the expected value of x ?
- F. 1
 G. $\frac{3}{2}$
 H. $\frac{9}{2}$
 J. 6
 K. 9
57. For what positive real value of k , if any, is the determinant of the matrix $\begin{bmatrix} k & 4 \\ 3 & k \end{bmatrix}$ equal to k ?
 (Note: The determinant of matrix $\begin{bmatrix} a & b \\ c & d \end{bmatrix}$ equals $ad - bc$.)
- A. 3
 B. 4
 C. 12
 D. $\sqrt{12}$
 E. There is no such value of k .
58. Given a positive integer n such that $i^n = 1$, which of the following statements about n must be true?
 (Note: $i^2 = -1$)
- F. When n is divided by 4, the remainder is 0.
 G. When n is divided by 4, the remainder is 1.
 H. When n is divided by 4, the remainder is 2.
 J. When n is divided by 4, the remainder is 3.
 K. Cannot be determined from the given information
59. For $-\frac{\pi}{2} \leq \theta \leq \frac{\pi}{2}$, $|\sin \theta| \geq 1$ is true for all and only the values of θ in which of the following sets?
- A. $\left\{-\frac{\pi}{2}, \frac{\pi}{2}\right\}$
 B. $\left\{\frac{\pi}{2}\right\}$
 C. $\left\{\theta \mid -\frac{\pi}{2} < \theta < \frac{\pi}{2}\right\}$
 D. $\left\{\theta \mid -\frac{\pi}{2} \leq \theta \leq \frac{\pi}{2}\right\}$
 E. The empty set
60. Ray \overrightarrow{PK} bisects $\angle LPM$, the measure of $\angle LPM$ is $11x^\circ$, and the measure of $\angle LPK$ is $(4x + 18)^\circ$. What is the measure of $\angle KPM$?
- F. 12°
 G. $28\frac{2}{7}^\circ$
 H. 42°
 J. $61\frac{1}{5}^\circ$
 K. 66°

END OF TEST 2

STOP! DO NOT TURN THE PAGE UNTIL TOLD TO DO SO.

DO NOT RETURN TO THE PREVIOUS TEST.

READING TEST

35 Minutes—40 Questions

DIRECTIONS: There are several passages in this test. Each passage is accompanied by several questions. After reading a passage, choose the best answer to each question and fill in the corresponding oval on your answer document. You may refer to the passages as often as necessary.

Passage I

LITERARY NARRATIVE: This passage is adapted from the essay “Rough Water” by David McGlynn (©2008 by David McGlynn).

One of my best races could hardly be called a race at all. I was a senior in high school, gunning to qualify for the USA Junior Nationals. The previous summer I had missed the cut by less than a second in the mile, and just the day before, at my high school regional meet, I had come within three-tenths of a second in the 500-yard freestyle. The qualification time was 4:39.69; I swam a 4:39.95. The next day, Sunday, I drove with my mother to the far side of Houston where a time trial was being held—an informal, unadvertised event thrown together at the last minute. The only races swum were those the swimmers requested to swim. Most were short, flapping sprints in which swimmers attempted to shave off a few one-hundredths of a second. I didn’t have the courage to face the mile, and since I’d struck out in the 500 the day before, I decided to swim the 1,000-yard freestyle. Forty lengths of the pool. It was a race I’d swum fast enough to believe that given the right confluence of circumstances—cold water, an aggressive heat, an energetic meet—I could make the cut. I had fifteen seconds to drop to qualify.

By the time I stood up on the blocks, I was not only the only one in the race, I was practically the only one in the natatorium. The horn sounded and I dove in. I was angry and disheartened at having missed the cut the day before and I had little belief that I could go any faster today.

About six hundred yards in, my coach started to pace. I stayed steady on, not in a hurry, not about to get my hopes up. In my mind, I had already missed the time. Then a boy from a rival high school, whom I hardly knew, unfolded his legs and climbed down from the bleachers and started to cheer. He squatted low to the water and pointed his finger toward the end of the pool, as if to say, *That’s where you’re going, now hurry up.* I thought, *If he’s cheering, maybe I’m close.*

Sometimes a moment comes along when the world slows down, and though everything else moves around us at the same frenetic speed, we’re afforded the opportunity to reflect in real-time rather than in retrospect. It

is as though we slip into a worm-hole in the fabric of time and space, travel into the past and then back again to the present in the same instant. That morning, swimming, I remembered a day in late September the year before, the last day my swim team had use of an outdoor pool. All summer long my teammates and I swam under an open sky. After this day we would spend the rest of the season in a dank and moldy indoor pool.

The triangular backstroke flags were strung across the lanes and the adjacent diving well. My teammates liked to run down the long cement deck, jump out over the diving well, and try to grab hold of the line. Many of them could jump far enough to make it. I could not, though I tried every day. I tried that day, and missed. Since I would not have another shot until May, I decided to try again. I squared up and ran, my feet wet against the pavement, and just as my foot hit the water’s edge, one of my teammates called out “Jump!” I bent my knees and pushed off hard and got my hand around the flag line. I pulled the whole thing into the water. Autumn was coming and I wondered if there was a metaphor in what I had just done; a fortune folded inside a cookie: my greatest effort would come when I was down to my last opportunity.

Now it was March and I was down to my last opportunity, thinking about that day and hearing the word “Jump!” as my eyes followed the finger of the boy pointing me onward. What I understood—not later, but right then, in the water—was how little this swim added up to in the world. I had spent more than a year training for this one swim, and when it was finished the world would be no different than before it began. If no one else cared, then the swim was mine alone. It mattered because it was the task before me *now*, the thing I wanted *now*. Swimming, I had long understood, is a constant choice between the now and the later: exhaustion now for the sake of fitness later, all those Friday nights spent in the pool in pursuit of an end that seemed always one step farther on. I was out of laters, this was the end, and I made my choice. I cashed in the energy I set aside for climbing out of the pool and unfolding my towel and tying my shoes. I’ve never sprinted harder in my life, not before and not since. I hit the wall. I knew by instinct, by the spasm of my tendons and the ache in my bones, before I ever turned toward the clock or heard my coach scream, that I had made it.

1. The narrator of the passage can best be described as a swimmer who primarily:
 - A. recalls the swim of his life and the factors that motivated him during that swim.
 - B. remembers the events that inspired him to participate in a time trial at the Junior Nationals.
 - C. contrasts the joy of winning competitions early in the season with his later struggles to succeed.
 - D. chronicles his swimming career, from childhood through high school.
2. Which of the following events mentioned in the passage happened first chronologically?
 - F. The narrator stood on the blocks at the Sunday time trial his senior year.
 - G. The narrator leapt out over the diving well in late September.
 - H. The narrator swam the 500-yard freestyle in the high school regional meet as a senior.
 - J. The narrator heard a boy from a rival school cheering.
3. The narrator describes the natatorium as being nearly empty of spectators the day of his race in order to:
 - A. illustrate that the perfect racing conditions the narrator had hoped for weren't likely to occur.
 - B. demonstrate that, contrary to the narrator's expectations, the meet was energetic.
 - C. explain why the narrator's coach paced at the sound of the horn.
 - D. identify why the narrator felt a rush of energy before the race.
4. The narrator indicates that when he swam the 1,000-yard freestyle in the time trials, the world, for a moment, seemed to:
 - F. speed up, blurring past and present events.
 - G. rush past, forcing him to reflect in retrospect.
 - H. move in slow motion, as did everything around him.
 - J. slow down, allowing him to reflect in real time.
5. The passage indicates that during the narrator's swim at the time trial, he understood for the first time that:
 - A. his goals would always be one step farther on.
 - B. he had trained for this swim for over a year.
 - C. the swim was an event that was important to him alone.
 - D. swimming is a choice between the now and the later.
6. Based on the passage, the "end" the narrator mentions in line 80 most likely refers to his:
 - F. final pursuit of fitness.
 - G. last chance to qualify for Junior Nationals.
 - H. memory of his final Friday night practice.
 - J. ultimate realization that he had defeated the other competitors in the race.
7. The narrator of the passage characterizes the time trial in Houston as:
 - A. one long sprint in which swimmers attempted to improve their times.
 - B. a meet advertised as a way to qualify for the Junior Nationals.
 - C. a regional meet that featured only the 500-yard freestyle and 1,000-yard freestyle.
 - D. an informal swimming event put together at the last minute.
8. The statement "*That's where you're going, now hurry up*" (lines 35–36) can most directly be attributed to the:
 - F. cheering boy, as he verbally criticizes the narrator's efforts.
 - G. cheering boy, as he shouts encouragement to the narrator.
 - H. narrator, as he speculates about what the cheering boy meant when the boy pointed at the pool.
 - J. narrator, as he angrily contemplates his response to the cheering boy.
9. For the narrator, compared to practicing in the outdoor pool, practicing in the indoor pool is:
 - A. more productive.
 - B. more liberating.
 - C. less appealing.
 - D. less competitive.
10. When the narrator heard "Jump!" in his mind while swimming (line 67), he was most likely remembering:
 - F. his teammate's command the day the narrator caught the flag line.
 - G. his own shout as he leapt off the outdoor pool's deck that fall.
 - H. the cheers of the boy from the rival school.
 - J. the abrupt start of his race that Sunday.

Passage II

SOCIAL SCIENCE: Passage A is adapted from the book *Apple: A Global History* by Erika Janik (©2011 by Erika Janik). Passage B is adapted from the article “The Fatherland of Apples” by Gary Nabhan (©2008 by The Orion Society).

Passage A by Erika Janik

In early September of 1929, Nikolai Vavilov, famed Russian plant explorer and botanist, arrived in the central Asian crossroads of Alma-Ata, Kazakhstan. Climbing up the Zailiyskei Alatau slopes of the Tian Shan mountains separating Kazakhstan from China, Vavilov found thickets of wild apples stretching in every direction, an extensive forest of fruit coloured russet red, creamy yellow, and vibrant pink. Nowhere else in the world do apples grow thickly as a forest or with such incredible diversity. Amazed by what he saw, Vavilov wrote: ‘I could see with my own eyes that I had stumbled upon the centre of origin for the apple.’

With extraordinary prescience and few facts, Vavilov suggested that the wild apples he had seen growing in the Tian Shan were in fact the ancestors of the modern apple. He tracked the whole process of domestication to the mountains near Alma-Ata, where the wild apples looked awfully similar to the apples found at the local grocery. Unfortunately, Vavilov’s theory would remain mostly unknown for decades.

Exactly where the apple came from had long been a matter of contention and discussion among people who study plant origins. Vavilov, imprisoned by Joseph Stalin in 1940 for work in plant genetics that challenged Stalin’s beliefs, died in a Leningrad prison in 1943. Only after the fall of communism in Russia did Vavilov’s theory, made more than half a century earlier, become widely recognized.

As Vavilov predicted, it’s now believed that all of the apples known today are direct descendents of the wild apples that evolved in Kazakhstan. Apples do not comprise all of Kazakhstan’s plant bounty, however. At least 157 other plant species found in Kazakhstan are either direct precursors or close wild relatives of domesticated crops, including 90 per cent of all cultivated temperate fruits. The name of Kazakhstan’s largest city, Alma-Ata, or Almaty as it is known today, even translates as ‘Father of Apples’ or, according to some, ‘where the apples are’. So this news about the apple’s origins was probably no surprise to residents, particularly in towns where apple seedlings are known to grow up through the cracks in the pavements. The apple has been evolving in Central Asia for upwards of 4.5 million years.

Passage B by Gary Nabhan

Nikolai Vavilov is widely regarded as the world’s greatest plant explorer, for he made over 250,000 seed, fruit, and tuber collections on five continents. Kazakh conservationist Tatiana Salova credits him with first recognizing that Kazakhstan was the center of origin

and diversity for apples. “It is not surprising,” she concedes, “that when Vavilov first came to Kazakhstan to look at plants he was so amazed. Nowhere else in the world do apples grow as a forest. That is one reason why he stated that this is probably where the apple was born, this was its birthing grounds.”

Discerning where a crop originated and where the greatest portion of its genetic diversity remains extant may seem esoteric to the uninitiated. But knowing where exactly our food comes from—geographically, culturally, and genetically—is of paramount importance to the rather small portion of our own species that regularly concerns itself with the issue of food security. The variety of foods that we keep in our fields, orchards, and, secondarily, in our seed banks is critically important in protecting our food supply from plagues, crop diseases, catastrophic weather, and political upheavals. Vavilov himself was personally motivated to become an agricultural scientist by witnessing several famines during the czarist era of Russia. He hoped that by combining a more diverse seed portfolio with knowledge from both traditional farmers and collaborating scientists, the number of Russian families suffering from hunger might be reduced.

In a very real sense, the forests of wild foragers and the orchards of traditional farmers in such centers of crop diversity are the wellsprings of diversity that plant breeders, pathologists, and entomologists return to every time our society whittles the resilience in our fields and orchards down to its breaking point.

And whittle away we have done. Here in North America, according to apple historian Dan Bussey, some 16,000 apple varieties have been named and nurtured over the last four centuries. By 1904, however, the identities and sources of only 7,098 of those varieties could be discerned by USDA scientist W. H. Ragan. Since then, some 6,121 apple varieties—86.2 percent of Ragan’s 1904 inventory—have been lost from nursery catalogs, farmers’ markets, and from the American table.

11. The author’s use of the words and phrases “thickets,” “stretching in every direction,” and “extensive forest” (lines 6–7) in Passage A most nearly serves to emphasize which of the following points?
- A. The Tian Shan mountains are a challenge to navigate.
 - B. The apple varieties of Kazakhstan would be difficult for a botanist to catalog.
 - C. The diversity of plant species in Kazakhstan is crucially important.
 - D. The magnitude of wild apples in Kazakhstan is stunning.

12. The author of Passage A most likely states that the wild apples growing in the Tian Shan looked like apples found at the local grocery store to support the point that:
- F. many of the apples stocked in grocery stores are harvested in the Tian Shan.
 - G. in the Tian Shan, Vavilov had likely found the wild ancestors of the domesticated apple.
 - H. the wild apples growing in the Tian Shan are among the most popular varieties with consumers.
 - J. in the Tian Shan, Vavilov had found new apple varieties to introduce to food producers.
13. Passage A makes which of the following claims about plant species that are found in Kazakhstan?
- A. Approximately 157 species of cultivated temperate fruits originated in Kazakhstan.
 - B. Ninety percent of all domesticated crops are either direct precursors or close wild relatives of plant species found in Kazakhstan.
 - C. Of the plant species found in Kazakhstan, ninety percent are species of apples.
 - D. Aside from apples, at least 157 plant species found in Kazakhstan are either direct precursors or close wild relatives of domesticated crops.
14. Passage B most strongly suggests that Vavilov was motivated to become an agricultural scientist primarily because he:
- F. wanted to have one of his findings published.
 - G. aimed to work with a famous botanist.
 - H. wished to remedy a personal financial crisis.
 - J. hoped to help feed others.
15. The author of Passage B uses the phrase “whittle away” (line 80) to refer to the way that apple varieties have been:
- A. gradually lost from nursery catalogs, farmers’ markets, and the American table.
 - B. modified by plant breeders, entomologists, and pathologists to meet specialized needs.
 - C. weeded out by scientists until only the few thousand most resilient varieties remained.
 - D. pared down in 1904 to the few varieties that nursery catalogs wanted to feature.
16. As it is used in lines 82–83, the phrase *named and nurtured* most nearly means:
- F. nominated and encouraged.
 - G. identified and cultivated.
 - H. pointed to and groomed.
 - J. cited and fed.
17. In Passage B, it can most reasonably be inferred from the third paragraph (lines 74–79) that “centers of crop diversity” become crucially important when:
- A. plant breeders would like to learn more about the plant species of central Asia.
 - B. problems with a cultivated crop require experts to research a new variety of the crop.
 - C. consumers would like more variety in grocery produce departments.
 - D. disputes among plant breeders, pathologists, and entomologists lead to a reduction in crop variety.
18. Which of the following statements best describes the difference in the tone of the two passages?
- F. Passage A is defensive, whereas Passage B is dispassionate.
 - G. Passage A is solemn, whereas Passage B is optimistic.
 - H. Passage A is celebratory, whereas Passage B is cautionary.
 - J. Passage A is accusatory, whereas Passage B is sentimental.
19. Compared to the author of Passage A, the author of Passage B provides more information about the:
- A. reduction in the number of apple varieties in North America over the past four centuries.
 - B. methods Vavilov used to prove to other scientists that the apples growing in the Tian Shan are the ancestors of the modern apple.
 - C. number of apple varieties that are thriving in Kazakhstan today.
 - D. techniques used by researchers to determine the regions with the greatest genetic diversity in plants.
20. Passage A quotes Vavilov as saying “I could see with my own eyes that I had stumbled upon the centre of origin for the apple” (lines 11–12). In Passage B this quote is directly:
- F. invoked by the passage author as he imagines what Kazakhstan looked like centuries ago.
 - G. used to support an argument by USDA scientists.
 - H. paraphrased by Salova.
 - J. refuted by Bussey.

Passage III

HUMANITIES: This passage is adapted from the article “The Quiet Sideman” by Colin Fleming (©2008 by The American Scholar).

Near the end of his eight years as a recording-session musician, tenor saxophonist Leon “Chu” Berry landed a short-lived spot with Count Basie’s orchestra. Standing in for one of the Basie band’s two tenor giants, Berry took a lead solo on “Oh, Lady Be Good,” the 1924 Gershwin song that Basie had played for years. In the 28 seconds that the solo lasted on February 4, 1939, we are treated to no less than the musical personification of mind and body working together in divine tandem. When you hear the recording for the first time, you’re likely to wonder why you’ve never heard of Chu Berry before.

Why you’ve never heard of him is pretty simple: a lot of hard-core jazz buffs don’t know much about him. Berry was a solid session player who turns up on recordings with Basie, Bessie Smith, Fletcher Henderson, and Billie Holiday. But he did not cut many sessions himself as a leader, and when he soloed, he worked within the recording constraints of the era and the swing genre—fast-moving 78s with solos often lasting for a mere 32 beats.

The people who loved Berry were, not surprisingly, other tenor players, a situation leading to the dreaded “musician’s musician” tag. But that’s not nearly praise enough to describe Chu Berry, who, when given opportunity, displayed a musical dexterity that would be envied by future generations of horn men.

Berry faced the lot of other horn players: having to grind it out long and hard until something memorable burst through; the prejudices and expectations of the listening public; and the accepted wisdom of what is and isn’t art in a given medium. In this case, swing was fodder for dance parties, not music worthy of study.

Oddly enough, Berry’s geniality might help explain his failure to court history’s favor: it wasn’t in his nature to call attention to himself or his playing. Born in 1908 into the black middle class in Wheeling, West Virginia, the laid-back, affable Berry attended West Virginia State in Charleston, where he switched from alto sax to tenor and exhibited the willingness to fit in that characterized his presence in so many dance bands. He was the rare artist who refused to put his interests above those of the band, even if that meant playing ensemble passages rather than taking a healthy allotment of solo breaks.

College proved a training ground for Berry the bandsman, as he teamed up with a number of amateur outfits. He never played simply to show off. Instead, he tried to bring out the positive attributes in any given situation or setting. Later, when Berry is performing with the Calloway ensemble, we hear some ragged, out-of-tune playing until Berry’s first few solo notes emerge.

The other players, no longer languidly blowing through their charts, immediately surge up behind him, all fighting-fit. Once Berry finishes his solo, the shenanigans resume.

After making his way to New York, Berry immediately became a presence and soon was in demand. The great jazz orchestras of the swing era were fronted by musical directors/arrangers—Duke Ellington was pre-eminent—who drew the acclaim. The sidemen were musical traveling salesmen who sold someone else’s wares in the best style they could manage. It was with Fletcher Henderson that Berry began to ditch some of the sideman’s subservient trappings. For starters, Henderson wrote in keys that were rare for the jazz orchestras of the day, and his somber, indigo-inflected voicings were ideal for a player of Berry’s introspective approach to his instrument: Berry sounds as if he’s being swallowed by his sax. “Blues in C Sharp Minor,” for instance, is odd, haunting, and ultimately relaxing. A Berry solo in it is slightly off mike, making the listener feel as though he’s been playing for some time before we finally hear him. The effect is unnerving, as if we weren’t paying close attention.

In June 1940, Cab Calloway granted Berry a showcase piece, “A Ghost of a Chance,” the sole recording in Berry’s career to feature him from start to finish. It was his “Body and Soul,” a response to Coleman Hawkins’s famous recording, intended not as a riposte to a rival, but as the other half of a dialogue. Its rubato lines are disembodied from the music meant to accompany it, which is spartan to begin with. This may be Berry’s one and only instance of indulgence on a record, a cathedral of a solo in its flourishes, angles, ornamentations, reflexivity. If sunlight could pass through music, “A Ghost of a Chance” would funnel it out in the broadest spectrum of colors.

21. Based on the passage, how did Berry’s personality affect his career?
- A. His ambitious, competitive personality was off-putting to other musicians, who were reluctant to play with him.
 - B. His genial personality endeared him to other musicians, but his career suffered when he spent more time socializing than practicing.
 - C. His modest and easygoing personality kept him out of the spotlight and, consequently, he received less attention as a performer.
 - D. His shy, introspective personality was misunderstood as snobbish arrogance, so he was offered few recording-session jobs.

22. The author mentions Berry's solo in "Oh, Lady Be Good" primarily in order to:
- F. illustrate why most people haven't heard of Berry.
 - G. provide an example of Berry's musical excellence.
 - H. contrast Berry's later work with Berry's early work.
 - J. establish that Berry's solo was better than Count Basie's.
23. The author points out that many serious jazz enthusiasts know little about Berry primarily in order to:
- A. criticize scholarship that has provided an unbalanced history of jazz.
 - B. demonstrate that the author is more knowledgeable than most jazz scholars.
 - C. illustrate the secrecy Berry demanded in order to preserve his family's privacy.
 - D. explain why it's likely that readers would be unfamiliar with Berry.
24. According to the author, Berry's solos as a recording-session musician were often very short because he:
- F. wasn't a very good saxophone player until late in his career.
 - G. drew more attention playing ensemble passages.
 - H. worked within the recording constraints of the era.
 - J. preferred playing many short solos to playing a few long ones.
25. The author indicates that during Berry's time as a musician, swing music was primarily regarded as:
- A. an opportunity for soloists to show off their skills.
 - B. a genre to be most appreciated by young people.
 - C. musician's music that lacked a popular audience.
 - D. music for dance parties but not music for study.
26. As it is used in line 35, the word *court* most nearly means to:
- F. seek to attract.
 - G. romantically pursue.
 - H. dangerously provoke.
 - J. pass judgment upon.
27. In the seventh paragraph (lines 57–75), the author compares sidemen to traveling salesmen in order to:
- A. make clear how often musicians had to travel.
 - B. indicate that musicians often had side jobs.
 - C. illustrate sidemen's supportive role in a band.
 - D. show how hard sidemen worked to get hired.
28. The author describes Henderson's "Blues in C Sharp Minor" as:
- F. innovative, indulgent, and colorful.
 - G. fast-moving, memorable, and eerie.
 - H. artful, sublime, and unexpectedly upbeat.
 - J. odd, haunting, and relaxing.
29. According to the author, what is unique about the June 1940 rendition of the song "A Ghost of a Chance"?
- A. It's the only recorded piece that features Berry from beginning to end.
 - B. Berry plays an alto saxophone instead of his usual tenor saxophone.
 - C. It was the only public performance Berry gave in 1940.
 - D. Berry showcases his unrivaled ability to play a solo that blends into the background.
30. The author uses the phrase "a cathedral of a solo" (line 85) most likely to create a sense that Berry's solo was:
- F. an intricate, awe-inspiring masterpiece.
 - G. a somber, mournful hymn.
 - H. a crumbling remnant of Berry's once-great skill.
 - J. a testament to Calloway's band leadership.

Passage IV

NATURAL SCIENCE: This passage is adapted from the article “Warp Factor” by Charles Liu (©2003 by Natural History Magazine, Inc.).

Astronomers sometimes describe the shape of our home galaxy, the Milky Way, as a thin-crust pizza with a plum stuck in the middle. The plum is the slightly oblong central bulge, protruding about 3,000 light-years above and below the galactic plane, comprised mostly of older stars; it makes up the core of the Milky Way, and includes a black hole two and a half million times the mass of the Sun. The crust of the pizza is the galactic disk—the source of most of our galaxy’s light. Thin and flat, the disk is 100,000 light-years across, about 1,000 light-years thick, on average, and includes more than 80 percent of the galaxy’s hundred billion or so stars.

The plum-and-pizza picture works well enough, but like most simple metaphors, it breaks down if you push it. For one thing, the galactic disk isn’t a rigid body, but a loose agglomeration of matter streaming around a common center of gravity. (The swirling pattern of a hurricane far better resembles our spinning galaxy.) For another thing, our galaxy’s disk isn’t flat; it’s warped. Picture a disk of pizza dough spun into the air by a skilled chef: our galaxy goes through the same kind of floppy, wobbly gyrations, though at a rate best measured in revolutions per hundreds of millions of years.

Why does the Milky Way have such an odd-looking warp? No definitive answer has emerged. One thing we do know: when it comes to warps, our galaxy is hardly unique. About half of all spiral galaxies are warped to some degree. Theoretical and computational models have shown that a number of physical processes can warp a galaxy, so it’s a matter of figuring out which scenario applies. An innovative analysis of the problem by Jeremy Bailin, an astronomy graduate student at the University of Arizona in Tucson, has implicated a small satellite galaxy, currently being ripped to shreds by the gravity of the Milky Way.

The Sagittarius Dwarf Spheroidal Galaxy was discovered in 1994. It appears to be in a roughly polar orbit around the Milky Way—that is, above and below the galactic disk—about 50,000 light-years from the galactic center. That orbit brings the dwarf galaxy far too close to the huge gravitational tidal forces of the Milky Way for the dwarf to remain intact. As a result, the Sagittarius Dwarf now looks something like strands of spaghetti spilling from the front of a pasta-making machine, the galaxy’s matter being drawn out over hundreds of millions of years by intergalactic tides.

Gravitational collisions between small satellite galaxies and big spiral galaxies have long been regarded as possible culprits in the warping of a larger galaxy’s disk. The best known satellite galaxies orbiting the Milky Way—the Large and Small Magellanic Clouds—are too far away, and have the wrong orbital

characteristics, to have warped our galactic home. The Sagittarius Dwarf seems a much more likely candidate, simply because it is only a third as far from the center of the Milky Way as the Magellanic Clouds. But in astronomy—unlike in real estate—location isn’t everything; to show a direct connection between warp and dwarf, the orbital motion of the Sagittarius Dwarf must be linked to the rotation of the Milky Way’s disk.

Bailin’s study is the first to find such a link. His analysis of the galactic warp is based on angular momentum—a measure of how much a system is spinning or rotating. Just as objects moving in a straight line have momentum, objects spinning or orbiting around an axis have angular momentum; and just as the momenta of two objects combine when they collide, so too do their angular momenta. Imagine two figure skaters coming together for a combination spin. When they make physical contact, their individual spiraling motions combine to produce a single, unified whirl.

Starting with the latest measurements of the structure and spin of the Milky Way, Bailin deduced the angular momentum of the warped portion of the Milky Way’s disk. He then compared that measure with the angular momentum of the Sagittarius Dwarf—and found for the first time, within the margins of measurement error, that the two angular momenta are identical in both quantity and direction. Such a coupling of the angular momenta of two bodies almost never happens by chance; usually, it takes place only when two spinning systems, like the skaters, come into contact. The coupling isn’t enough to prove cause and effect by itself, but it’s solid circumstantial evidence that the interaction of the Sagittarius Dwarf with the Milky Way disk created the warp in our galaxy.

31. Which of the following statements best expresses the main idea of the passage?
- A. Bailin began studying the Sagittarius Dwarf when he was a graduate student in astronomy.
 - B. The gravitational tidal forces of the Milky Way are destroying the Sagittarius Dwarf.
 - C. Most astronomers have come to an agreement that evidence about how galaxies have formed is, at best, circumstantial.
 - D. Evidence suggests that the warp in the Milky Way’s disk results from the Milky Way’s interaction with a small satellite galaxy.
32. It can reasonably be inferred that the problem the author mentions in line 33 refers to:
- F. a particular aspect of Bailin’s theory for which there is little evidence.
 - G. a mathematical computation that led Bailin to focus on the Sagittarius Dwarf.
 - H. the question of which physical processes caused the warp in the Milky Way.
 - J. the potential impact of wobbly gyrations on the Milky Way’s rotation.

33. It can reasonably be inferred from the passage that the small satellite galaxy referred to in lines 35–36 is:
- A. the Small Magellanic Cloud.
 - B. the Sagittarius Dwarf.
 - C. a known but as yet unnamed galaxy.
 - D. a hypothetical galaxy that is believed to exist but has not yet been found.
34. Based on the passage, which of the following statements best describes Bailin’s study as it relates to the field of astronomy?
- F. It led astronomers to the discovery of a warp in the Milky Way’s disk.
 - G. It convinced more astronomers to focus their attention on the center of the Milky Way.
 - H. It revealed problems with the basic assumptions held by most astronomers.
 - J. It provided evidence for an idea that scientists had long considered a possibility but had not yet proved.
35. According to the passage, Bailin discovered that the angular momentum of the warped portion of the Milky Way and the angular momentum of the Sagittarius Dwarf are:
- A. identical in quantity but different in direction.
 - B. identical in direction but different in quantity.
 - C. identical in both quantity and direction.
 - D. different in both quantity and direction.
36. According to the passage, the central bulge of the Milky Way is comprised of:
- F. 80 percent of the galaxy’s stars.
 - G. older stars and a black hole.
 - H. a galactic plane and several dwarf planets.
 - J. a loose agglomeration of unidentified matter.
37. The author refers to the swirling pattern of a hurricane primarily in order to:
- A. help explain the shortcomings of the plum-and-pizza metaphor.
 - B. argue that the unpredictability of the rotation of spiral galaxies requires a new metaphor.
 - C. emphasize the particular aspects of the Milky Way that make it unique.
 - D. describe how the movement of the Milky Way creates gravitational tides.
38. The passage directly compares the Milky Way’s disk as it is affected by its warp to:
- F. a pasta maker churning out spaghetti.
 - G. pizza dough being spun in the air by a chef.
 - H. a thin-crust pizza balanced on top of a plum.
 - J. two figure skaters coming together for a combination spin.
39. According to the passage, which of the following statements best describes the movement of the Sagittarius Dwarf with respect to the Milky Way?
- A. It appears to be in a roughly polar orbit around the Milky Way.
 - B. It appears to orbit the Milky Way at an angle of roughly forty-five degrees.
 - C. It follows the movement of the stars in the Milky Way’s disk, though at a slightly faster rate.
 - D. It once followed the movement of the stars in the Milky Way’s disk, but now seems to move erratically along its own path.
40. The passage describes angular momentum as the amount of a system’s:
- F. vertical deviation within an orbital path.
 - G. movement in a straight line through space.
 - H. gravitational pull.
 - J. spin or rotation.

END OF TEST 3

STOP! DO NOT TURN THE PAGE UNTIL TOLD TO DO SO.

DO NOT RETURN TO A PREVIOUS TEST.



SCIENCE TEST

35 Minutes—40 Questions

DIRECTIONS: There are several passages in this test. Each passage is followed by several questions. After reading a passage, choose the best answer to each question and fill in the corresponding oval on your answer document. You may refer to the passages as often as necessary.

You are NOT permitted to use a calculator on this test.

Passage I

A study was conducted to examine whether female *Blattella germanica* (a species of cockroach) prefer to eat cat food, cheese, ham, or peanuts. First, 200 mg of each of the 4 foods was separately placed into a single box. Then, adult female *B. germanica* were added to the box. Figure 1 shows how the mass, in mg, of each food in the box changed over time after the addition of the *B. germanica*. Table 1 shows the percent by mass of carbohydrates, lipids, proteins, and water, respectively, present in each of the 4 foods tested in the study.

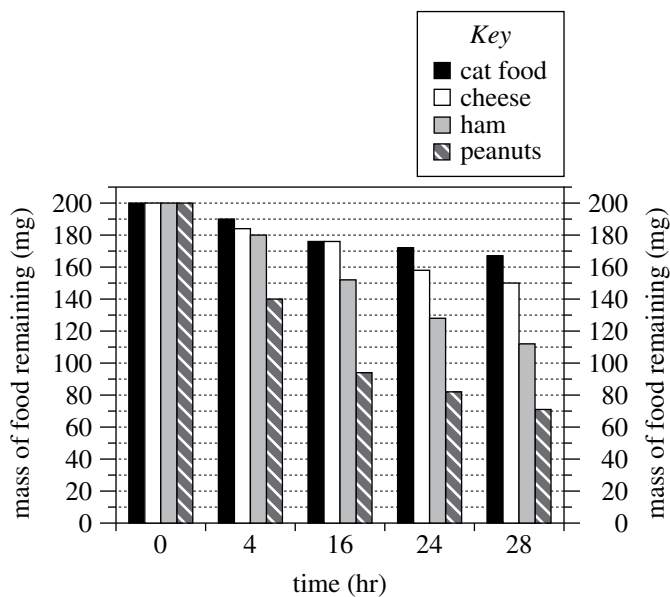


Figure 1

Figure adapted from Prachumporn Lauprasert et al., "Food Preference and Feeding Behavior of the German Cockroach, *Blattella germanica* (Linnaeus)." ©2006 by the Faculty of Science, Chulalongkorn University.

Food	Percent by mass			
	carbohydrates	lipids	proteins	water
Cat food	1.2	6.0	16.9	66.2
Cheese	0.5	27.7	20.8	48.4
Ham	0.0	18.2	23.6	57.1
Peanuts	15.8	49.6	26.2	6.4

Table adapted from U.S. Department of Agriculture, *USDA National Nutrient Database for Standard Reference, Release 24*. 2011.

- According to Figure 1, the mass of cheese remaining at 4 hr was closest to which of the following values?
 - 140 mg
 - 176 mg
 - 185 mg
 - 190 mg
- Suppose a company wants to use food as bait in a trap designed to capture female *B. germanica*. Based on Figure 1, which of the 4 foods should the company place in the trap to maximize the chance of capturing female *B. germanica*?
 - Cat food
 - Cheese
 - Ham
 - Peanuts

4**4**

3. Consider the 4 foods in order of the percent by mass of proteins, from lowest to highest. From food to food, as the percent by mass of proteins increased, the mass of food remaining at 28 hr:
- A. increased only.
 - B. decreased only.
 - C. increased and then decreased.
 - D. decreased and then increased.
4. Consider the statement “The *B. germanica* ate the food between 0 hr and 4 hr, between 4 hr and 16 hr, between 16 hr and 24 hr, and between 24 hr and 28 hr.” This statement is consistent with the data in Figure 1 for how many of the 4 foods?
- F. 1
 - G. 2
 - H. 3
 - J. 4
5. A student predicted that the *B. germanica* would eat less cat food than ham by the end of the study. Do the data in Figure 1 support this prediction?
- A. Yes; at 28 hr, the mass of cat food remaining was about 55 mg greater than the mass of ham remaining.
 - B. Yes; at 28 hr, the mass of cat food remaining was about 95 mg greater than the mass of ham remaining.
 - C. No; at 28 hr, the mass of cat food remaining was about 55 mg less than the mass of ham remaining.
 - D. No; at 28 hr, the mass of cat food remaining was about 95 mg less than the mass of ham remaining.
6. Based on Table 1, when 200 mg of each of the 4 foods was placed in the box, water accounted for more than 100 mg of the mass of which food(s)?
- F. Peanuts only
 - G. Cat food and ham only
 - H. Cheese and peanuts only
 - J. Cat food, cheese, and ham only

**Passage II**

A teacher provided the table below to the students in a science class. The table gives 5 properties for each of Samples A–H. The students were told to assume that each sample is a completely solid cube composed of a single hypothetical pure substance.

Sample	Mass (g)	Volume (cm ³)	Density (g/cm ³)	Melting point (°C)	Boiling point (°C)
A	8.0	4.0	2.0	126	747
B	8.0	4.0	2.0	342	959
C	6.0	3.0	2.0	237	885
D	6.0	3.0	2.0	237	885
E	8.0	2.0	4.0	126	747
F	8.0	2.0	4.0	126	747
G	4.0	1.0	4.0	126	747
H	4.0	1.0	4.0	342	959

Note: Assume that mass, volume, and density were determined at 20°C and that all 5 properties were determined at 1 atmosphere (atm) of pressure.

The teacher asked each of 4 students to explain how these data could be used to predict which samples are composed of the same substance.

Student 1

If 2 samples have the same values for all 5 properties, they are composed of the same substance. If 2 samples have different values for any of the 5 properties, they are composed of different substances.

Student 2

If 2 samples have the same values for any 3 or more of the 5 properties, they are composed of the same substance. If 2 samples have the same values for fewer than 3 of the 5 properties, they are composed of different substances.

Student 3

If 2 samples have the same mass, volume, and density, they are composed of the same substance. If 2 samples have different values for any of these 3 properties, they are composed of different substances. Neither melting point nor boiling point, by itself, can distinguish between substances.

Student 4

If 2 samples have the same density, melting point, and boiling point, they are composed of the same substance. If 2 samples have different values for any of these 3 properties, they are composed of different substances. Neither mass nor volume, by itself, can distinguish between substances.

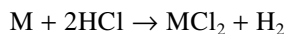
7. Based on Student 1's explanation, the same substance composes both of the samples in which of the following pairs?
- A. Samples A and B
 - B. Samples B and C
 - C. Samples C and D
 - D. Samples D and E



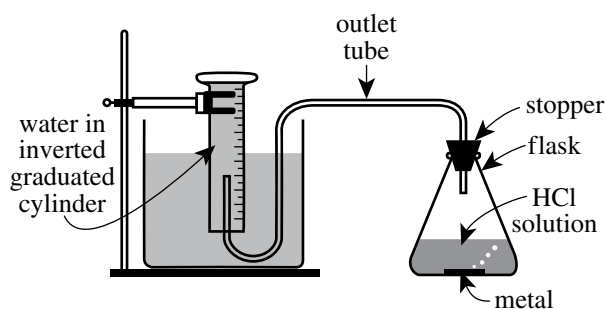
8. Based on Student 3's explanation, the same substance composes both of the samples in which of the following pairs?
- F. Samples A and C
 - G. Samples B and E
 - H. Samples F and G
 - J. Samples G and H
9. Suppose that the temperature of Sample A is increased to 250°C at 1 atm of pressure. At 250°C, would Sample A be a solid or a liquid?
- A. Solid, because the melting point of Sample A is 126°C.
 - B. Solid, because the melting point of Sample A is 747°C.
 - C. Liquid, because the melting point of Sample A is 126°C.
 - D. Liquid, because the melting point of Sample A is 747°C.
10. Consider the claim that 2 samples having the same density will always be composed of the same substance, regardless of the values of the other 4 properties. Which of the students, if any, would be likely to agree with this claim?
- F. Students 1 and 2 only
 - G. Students 2, 3, and 4 only
 - H. All of the students
 - J. None of the students
11. Which of Students 2, 3, and 4 would be likely to agree that Sample A and Sample B are composed of the same substance?
- A. Students 2 and 3 only
 - B. Students 2 and 4 only
 - C. Students 3 and 4 only
 - D. Students 2, 3, and 4
12. Consider the statement "Two samples that have the same mass, volume, density, and boiling point are composed of the same substance, even if the two samples have different melting points." Which of Students 2 and 4, if either, would be likely to agree with this statement?
- F. Student 2 only
 - G. Student 4 only
 - H. Both Student 2 and Student 4
 - J. Neither Student 2 nor Student 4
13. Suppose that the temperature of Sample D is increased to 890°C at 1 atm of pressure. Will the sample's density be lower than or higher than it was at 20°C and 1 atm?
- A. Lower; Sample D will be a gas, and gases generally have lower densities than do solids.
 - B. Lower; Sample D will be a liquid, and liquids generally have lower densities than do solids.
 - C. Higher; Sample D will be a gas, and gases generally have higher densities than do solids.
 - D. Higher; Sample D will be a liquid, and liquids generally have higher densities than do solids.

**Passage III**

When a solid metal (M) such as iron (Fe), nickel (Ni), or zinc (Zn) is placed in an aqueous hydrochloric acid (HCl) solution, a reaction that produces H_2 gas occurs:



Two experiments were conducted to study the production of H_2 in this reaction. The apparatus shown in the diagram below was used to collect the H_2 gas produced in each trial.



diagram

As H_2 was produced in the stoppered flask, it exited the flask through the outlet tube and displaced the water that had been trapped in the inverted graduated cylinder. (This displacement occurred because the H_2 did not dissolve in the water.) The volume of water displaced equaled the volume of gas (H_2 and water vapor) collected.

In each trial of the experiments, Steps 1–3 were performed:

1. The apparatus was assembled, and 25 mL of a 4 moles/L HCl solution was poured into the empty flask.
2. A selected mass of Fe, Ni, or Zn was added to the flask, and the stopper was quickly reinserted into the flask.
3. When H_2 production ceased, the volume of water that was displaced from the graduated cylinder was recorded.

The apparatus and its contents were kept at a selected temperature throughout Steps 2 and 3. The atmospheric pressure was 758 mm Hg throughout all 3 steps.

Experiment 1

In each trial, a selected mass of Fe, Ni, or Zn was tested at 30°C (see Figure 1).

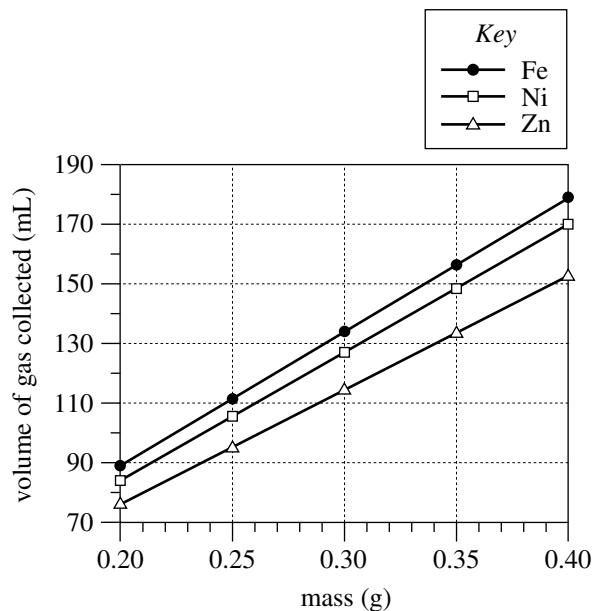


Figure 1

Experiment 2

In each trial, 0.30 g of Fe, Ni, or Zn was tested at a selected temperature (see Figure 2).

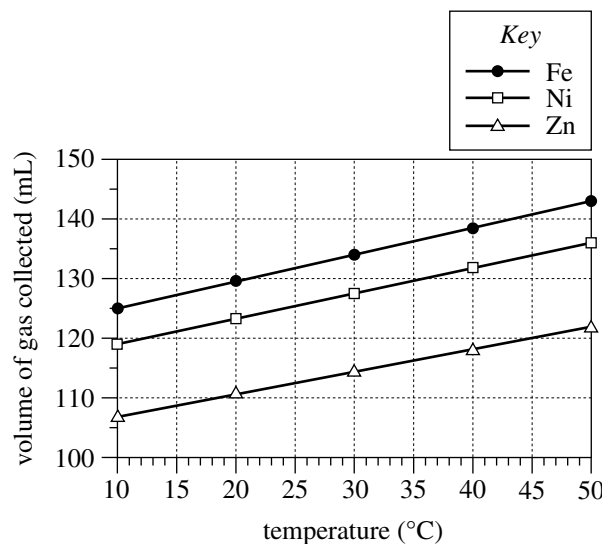


Figure 2



14. Consider the volume of gas collected in the trial in Experiment 2 for Ni at 30°C. The same approximate volume of gas was collected in the trial in Experiment 1 for what mass of Ni ?
- F. 0.20 g
G. 0.25 g
H. 0.30 g
J. 0.35 g
15. How many temperatures were tested in Experiment 1, and how many temperatures were tested in Experiment 2 ?
- | | Experiment 1 | Experiment 2 |
|----|--------------|--------------|
| A. | 1 | 1 |
| B. | 1 | 5 |
| C. | 5 | 1 |
| D. | 5 | 5 |
16. Which of the following statements describes a difference between Experiments 1 and 2 ? In Experiment 1:
- F. only Fe was tested, but in Experiment 2, Fe, Ni, and Zn were tested.
G. Fe, Ni, and Zn were tested, but in Experiment 2, only Fe was tested.
H. the same mass value of each metal was tested, but in Experiment 2, multiple mass values of each metal were tested.
J. multiple mass values of each metal were tested, but in Experiment 2, the same mass value of each metal was tested.
17. Which of the following variables remained constant throughout both experiments?
- A. Atmospheric pressure
B. Mass of metal
C. Temperature
D. Volume of gas collected
18. If a temperature of 5°C had been tested in Experiment 2, would the volume of gas collected for Zn more likely have been greater than 107 mL or less than 107 mL ?
- F. Greater than 107 mL, because for a given metal, the volume of collected gas increased as the temperature decreased.
G. Greater than 107 mL, because for a given metal, the volume of collected gas increased as the temperature increased.
H. Less than 107 mL, because for a given metal, the volume of collected gas decreased as the temperature decreased.
J. Less than 107 mL, because for a given metal, the volume of collected gas decreased as the temperature increased.
19. Consider the balanced chemical equation in the passage. Based on this equation, if 10 moles of HCl are consumed, how many moles of H₂ are produced?
- A. 5
B. 10
C. 15
D. 20
20. Suppose that the trial in Experiment 1 with 0.25 g of Zn is repeated, except that the inverted graduated cylinder is replaced by inverted test tubes, each completely filled with 60 mL of water. Based on Figure 1, how many test tubes will be needed to collect all the gas?
- F. 1
G. 2
H. 3
J. 4

**Passage IV**

Figure 1 is a diagram of an *RLC circuit*. The circuit has a power supply and 3 components: a resistor (R), an inductor (L), and a capacitor (C).

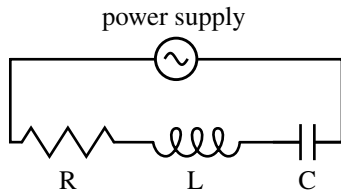


Figure 1

Electric current can flow through the circuit either clockwise (positive current) or counterclockwise (negative current). Figure 2 shows how the electric current in the circuit, I (in amperes, A), and the power supply voltage, V_S (in volts, V), both changed during a 20-millisecond (msec) time interval.

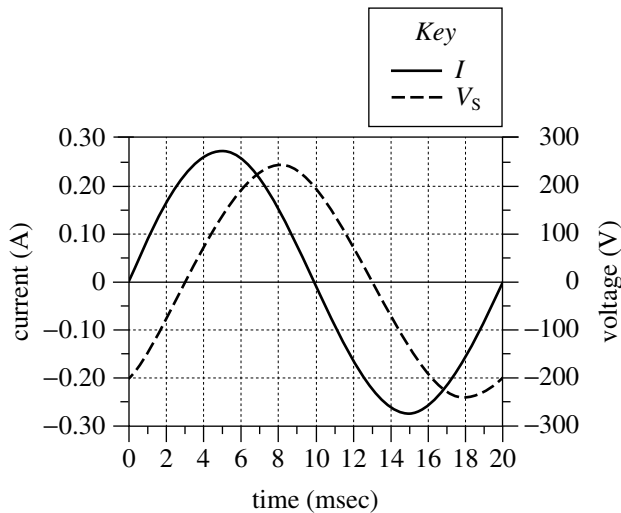


Figure 2

Figure 3 shows how the voltages across the components— V_R , V_L , and V_C , respectively—each changed during the same 20 msec time interval.

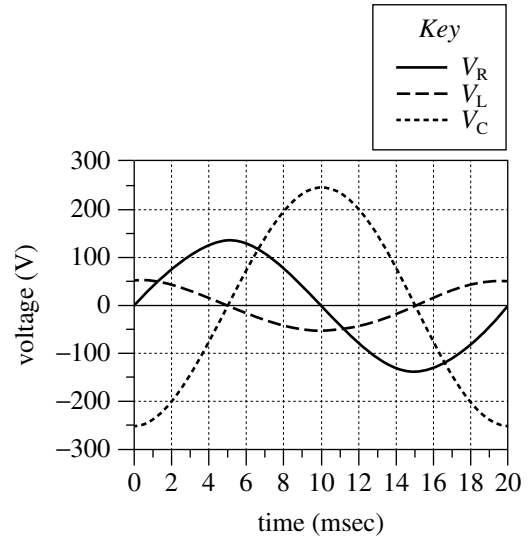


Figure 3

21. According to Figure 2, the maximum positive value of V_S was approximately:
- 125 V.
 - 200 V.
 - 250 V.
 - 275 V.
22. A *period* is the time required for a wave to complete one full cycle. Based on Figure 3, the period for V_L was:
- 5 msec.
 - 10 msec.
 - 20 msec.
 - 40 msec.



23. According to Figures 2 and 3, which voltage varied the *least* during the 20 msec interval?
- V_S
 - V_R
 - V_L
 - V_C
24. *Polarity* refers to whether a voltage is positive or negative (a voltage of 0 V has no polarity and can be ignored). Based on Figures 2 and 3, which 2 voltages were always *opposite* in polarity?
- V_R and V_L
 - V_R and V_S
 - V_L and V_C
 - V_L and V_S
25. Based on Figure 2, at which of the following times was the current in the circuit flowing counterclockwise?
- 0 msec
 - 5 msec
 - 10 msec
 - 15 msec
26. The table below lists the electric charge (in microcoulombs, μC) stored on the capacitor at 3 different times during the 20 msec interval.

Time (msec)	Charge (μC)
7	0.51
10	0.87
13	0.51

Based on Figures 2 and 3, from time = 7 msec through time = 13 msec, did the charge on the capacitor more likely change in sync with I or with V_C ?

- I ; over that time interval, both the charge and I decreased and then increased.
- I ; over that time interval, both the charge and I increased and then decreased.
- V_C ; over that time interval, both the charge and V_C decreased and then increased.
- V_C ; over that time interval, both the charge and V_C increased and then decreased.

**Passage V**

Strains of bacteria carrying a genetic mutation that prevents them from synthesizing the amino acid *histidine* are called *His*⁻. These strains of bacteria must absorb histidine from their environment in order to sustain their growth. Exposing *His*⁻ strains of bacteria to *mutagens* (substances that induce DNA mutations) can cause new mutations that restore the ability of some bacteria to synthesize histidine. Any bacterium that regains the ability to synthesize histidine becomes *His*⁺ and is known as a *His*⁺ revertant.

The number of *His*⁺ revertants in a population of bacteria can indicate the potential of a substance to be mutagenic in humans. Scientists tested 4 substances, each suspected to be a mutagen, on a *His*⁻ strain of the bacteria *Salmonella typhimurium*.

Study

A sterile petri dish (Dish 1) containing a nutrient agar lacking histidine was prepared. Then, 1×10^8 cells of *His*⁻ *S. typhimurium* were added to Dish 1 and evenly spread over the surface of the nutrient agar. These procedures were repeated for 4 more nutrient agar dishes (Dishes 2–5), except that the bacteria were mixed with 1 of the 4 suspected mutagens before being spread over the surface of the nutrient agar. Table 1 lists, for each of Dishes 2–5, the substance that was mixed with the bacteria before they were added to the dish.

Dish	Substance
2	L
3	M
4	N
5	P

The 5 dishes were incubated at 37°C for 2 days. At the end of the incubation period, the number of colonies growing on the nutrient agar in each dish was determined (see Table 2).

Dish	Number of colonies
1	2
2	14
3	25
4	107
5	6

27. Based on the results of the study, which of the suspected mutagens resulted in the greatest number of *His*⁺ revertants in a dish?
- A. Substance L
 B. Substance M
 C. Substance N
 D. Substance P
28. Which dish in the study was intended to serve the purpose of testing whether some of the *S. typhimurium* cells became *His*⁺ revertants without the addition of a mutagen?
- F. Dish 1
 G. Dish 2
 H. Dish 3
 J. Dish 4



29. Based on the results of the study, what is the order of the suspected mutagens, from the substance with the *least* potential to be mutagenic to the substance with the *most* potential to be mutagenic?
- A. P, M, N, L
 B. P, L, M, N
 C. N, L, P, M
 D. N, M, L, P

30. In the study, the scientists tested the effect of Substance P at a concentration of 5×10^{-9} g/mL. After the study, the scientists repeated their test of the effect of Substance P, but at 3 other concentrations. The 3 concentrations and their corresponding results are shown in the table below.

Concentration of Substance P	Number of colonies
10×10^{-9} g/mL	14
50×10^{-9} g/mL	54
100×10^{-9} g/mL	114

What is the relationship, if any, between the concentration of Substance P and its potential to cause mutations?

- F. As the concentration of Substance P increases, its potential to cause mutations increases only.
 G. As the concentration of Substance P increases, its potential to cause mutations decreases only.
 H. As the concentration of Substance P increases, its potential to cause mutations first decreases and then increases.
 J. There is no relationship between the concentration of Substance P and its potential to cause mutations.

31. Before bacteria were added to it, the dish that was intended to serve as the control dish in the study lacked which of the substances listed below?
- I. Histidine
 II. Nutrient agar
 III. Suspected mutagen
- A. II only
 B. III only
 C. I and II only
 D. I and III only

32. Which of the following statements about the numbers of bacteria that regained the ability to synthesize histidine is consistent with the results of the study for Dishes 2 and 3? The number of bacteria that became His⁺ revertants after exposure to:

- F. Substance M was about 2 times the number of bacteria that became His⁺ revertants after exposure to Substance L.
 G. Substance L was about 2 times the number of bacteria that became His⁺ revertants after exposure to Substance M.
 H. Substance M was about 4 times the number of bacteria that became His⁺ revertants after exposure to Substance L.
 J. Substance L was about 4 times the number of bacteria that became His⁺ revertants after exposure to Substance M.

33. The particular strain of *S. typhimurium* chosen for the study lacks normal DNA repair mechanisms. Which of the following statements gives the most likely reason this particular strain was chosen? The scientists:

- A. did not want the bacteria in the study to synthesize any DNA.
 B. did not want the bacteria in the study to synthesize any proteins.
 C. wanted the bacteria in the study to be able to repair the mutations caused by the substances.
 D. wanted the bacteria in the study to be unable to repair the mutations caused by the substances.

**Passage VI**

Three studies examined how the volume of runoff from melting ice is affected by wind speed and by the presence of sand beneath the ice.

In a lab kept at 18°C, runoff was collected from a plastic box containing melting ice. The box was tilted at 10° and had horizontal openings in its lower end. After flowing through the openings, the runoff fell into a trough (see diagram) and was conveyed to a measuring device.

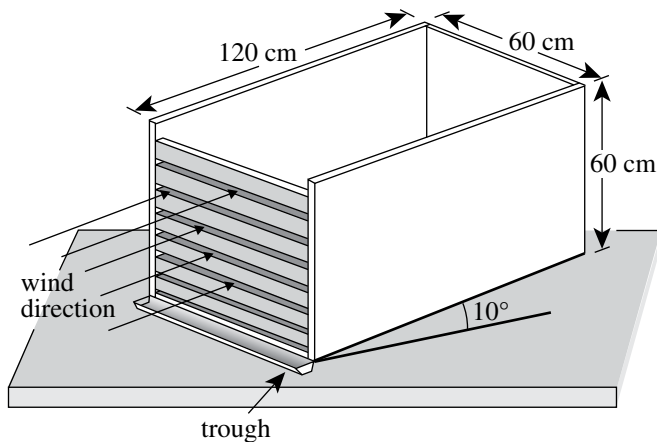


diagram of box

Study 1

In each of the first 3 of 4 trials, the following steps were carried out:

1. A 30 cm deep layer of a particular clean, dry sand was placed in the box.
2. A 30 cm deep layer of *chipped ice* (density 0.4 g/cm³) was placed in the box on top of the layer of sand.
3. A fan was turned on to blow air at a constant speed onto the trough end of the box.
4. For the next 600 min, the volume of runoff collected over each 20 min period was measured.

The wind speed was 2.5 m/sec, 1.0 m/sec, and 0.5 m/sec in the first, second, and third trials, respectively.

In the fourth trial, all steps except Step 3 were carried out. (The fan was not turned on.)

The results of the 4 trials are shown in Figure 1.

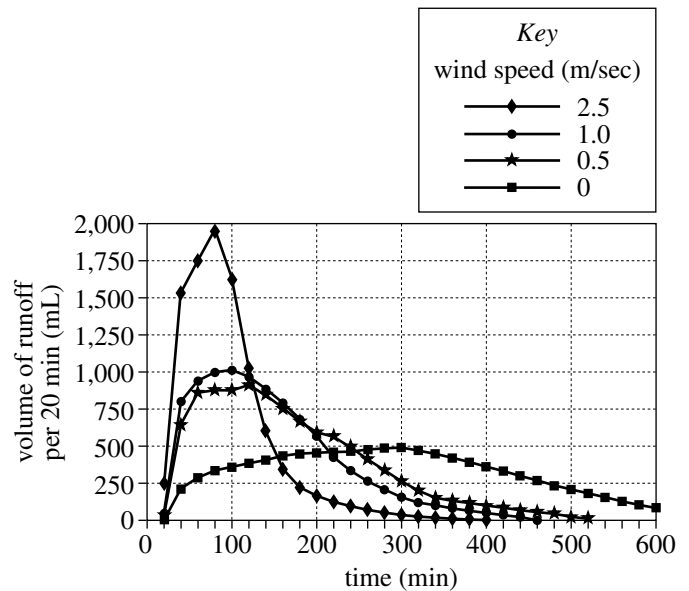


Figure 1

Study 2

The second trial of Study 1 was repeated. Then the second trial of Study 1 was again repeated, except that Step 1 was omitted. (No sand layer was placed in the box.) The results of the 2 trials are shown in Figure 2.

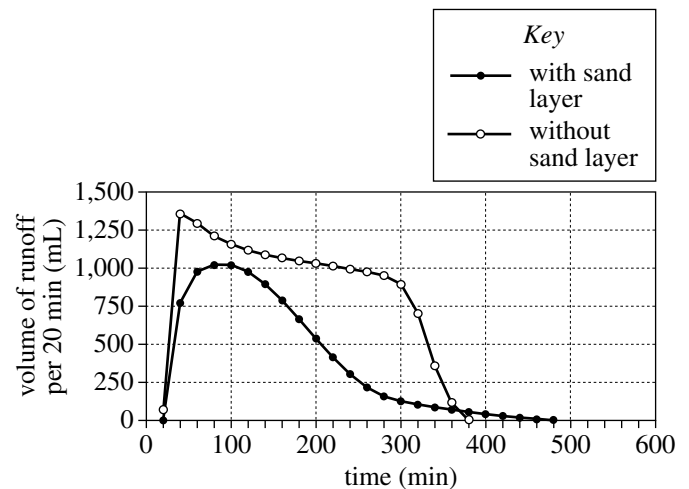
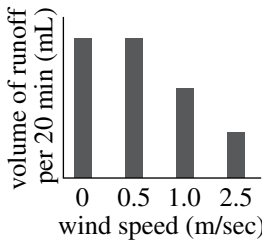
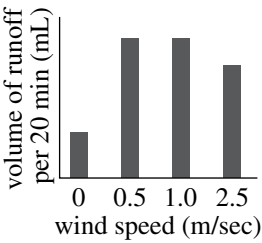
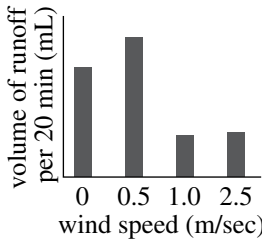
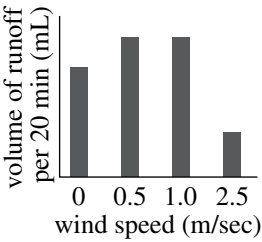


Figure 2

Figures adapted from Masahiko Hasebe and Takanori Kumekawa, "The Effect of Wind Speed on the Snowmelt Runoff Process: Laboratory Experiment." ©1994 by International Association of Hydrological Sciences Publishing.



34. The researchers conducting the studies chose to use a box made of a type of plastic rather than of wood to ensure that all of the water from the melting ice would flow from the box and into the trough. The researchers most likely made that choice because that type of plastic, unlike wood, is:
- porous and permeable, and therefore incapable of absorbing water.
 - nonporous and impermeable, and therefore incapable of absorbing water.
 - porous and permeable, and therefore capable of absorbing water.
 - nonporous and impermeable, and therefore capable of absorbing water.
35. Suppose Study 2 had been repeated, except in a lab kept at -1°C . The total volume of runoff measured over the 600 min in the repeated study would most likely have been:
- near or at zero, because -1°C is below the freezing point of water.
 - near or at zero, because -1°C is above the freezing point of water.
 - greater than that in the original study, because -1°C is below the freezing point of water.
 - greater than that in the original study, because -1°C is above the freezing point of water.
36. According to the results of Study 1, for which of the wind speeds did the runoff volume per 20 min decrease to zero from its maximum value *before* 500 min ?
- 0 m/sec only
 - 2.5 m/sec only
 - 0.5 m/sec and 1.0 m/sec only
 - 1.0 m/sec and 2.5 m/sec only
37. Compare the results of the 2 trials in Study 2. In which trial did the volume of runoff per 20 min reach a greater maximum value, and in which trial did the volume of runoff per 20 min decrease to zero from the maximum value in the shorter amount of time?
- | <u>greater maximum</u> | <u>shorter time to zero</u> |
|------------------------|-----------------------------|
| A. with sand layer | with sand layer |
| B. with sand layer | without sand layer |
| C. without sand layer | with sand layer |
| D. without sand layer | without sand layer |
38. The volume of runoff measured at 200 min in Study 1 for the 4 wind speeds is best represented by which of the following graphs?
- F. 
- H. 
- G. 
- J. 
39. Which factor was varied in Study 1 but kept the same in Study 2 ?
- Depth of sand layer
 - Wind speed
 - Tilt of box
 - Type of material that melted
40. Based on the diagram and the description of Study 1, which of the following expressions would most likely be used to calculate the *volume* of the sand layer in the plastic box (before chipped ice was placed on top)?
- $30\text{ cm} \times 60\text{ cm} \times 60\text{ cm}$
 - $30\text{ cm} \times 60\text{ cm} \times 120\text{ cm}$
 - $60\text{ cm} \times 60\text{ cm} \times 60\text{ cm}$
 - $60\text{ cm} \times 60\text{ cm} \times 120\text{ cm}$

END OF TEST 4

STOP! DO NOT RETURN TO ANY OTHER TEST.

Practice Writing Test

Your Signature: _____
(Do not print.)

Print Your Name Here: _____

Your Date of Birth:									
□	□	-	□	□	-	□	□	□	□
Month			Day			Year			

Form 18AG24

The **ACT**[®]

WRITING TEST BOOKLET

You must take the multiple-choice tests before you take the writing test.

Directions

This is a test of your writing skills. You will have **forty** (40) minutes to read the prompt, plan your response, and write an essay in English. Before you begin working, read all material in this test booklet carefully to understand exactly what you are being asked to do.

You will write your essay on the lined pages in the **answer document** provided. Your writing on those pages will be scored. You may use the unlined pages in this test booklet to plan your essay. Your work on these pages will not be scored.

Your essay will be evaluated based on the evidence it provides of your ability to:

- clearly state your own perspective on a complex issue and analyze the relationship between your perspective and at least one other perspective
- develop and support your ideas with reasoning and examples
- organize your ideas clearly and logically
- communicate your ideas effectively in standard written English

Lay your pencil down immediately when time is called.

DO NOT OPEN THIS BOOKLET UNTIL TOLD TO DO SO.

ACT[®]

PO Box 168
Iowa City, IA 52243-0168

©2018 by ACT, Inc. All rights reserved.

NOTE: This test material is the confidential copyrighted property of ACT, Inc., and may not be copied, reproduced, sold, or otherwise transferred without the prior express written permission of ACT, Inc. Violators of ACT's copyrights are subject to civil and criminal penalties.

Kid Stuff

Toys are for children, right? Not anymore. In recent years, things that used to be considered “kid stuff” have grown in popularity among grownups. Nowadays, adults regularly play video games, watch animated movies and television shows, purchase dolls and other collectible figures, and read comic books for their own enjoyment. Is adult enjoyment of children’s entertainment merely a sign of immaturity? In what ways can playing with kid stuff change the way adults understand today’s youth? Given that toys, games, and publications that used to be exclusively for children are growing in popularity among adults, it is worth considering the effects and implications of this trend.

Read and carefully consider these perspectives. Each suggests a particular way of thinking about the trend of adults playing with kid stuff.

Perspective One

It’s good for adults to be familiar with kid stuff. They’ll understand the lives of children better and be more responsive to their needs, interests, and problems.

Perspective Two

Adults need to be models of maturity and responsibility. When they act and think like children, kids have no one to look to for guidance.

Perspective Three

Children need their own cultural space—their own books, their own toys, their own movies—in which to explore their ideas. When adults start to take over that space, kids lose out.

Essay Task

Write a unified, coherent essay about the trend of adults playing with kid stuff. In your essay, be sure to:

- clearly state your own perspective on the issue and analyze the relationship between your perspective and at least one other perspective
- develop and support your ideas with reasoning and examples
- organize your ideas clearly and logically
- communicate your ideas effectively in standard written English

Your perspective may be in full agreement with any of those given, in partial agreement, or completely different.

Planning Your Essay

Your work on these prewriting pages will not be scored.

Use the space below and on the back cover to generate ideas and plan your essay. You may wish to consider the following as you think critically about the task:

Strengths and weaknesses of different perspectives on the issue

- What insights do they offer, and what do they fail to consider?
- Why might they be persuasive to others, or why might they fail to persuade?

Your own knowledge, experience, and values

- What is your perspective on this issue, and what are its strengths and weaknesses?
- How will you support your perspective in your essay?

Nota

- Para tu ensayo de práctica, necesitarás papel para notas a fin de planificar tu ensayo y cuatro hojas de papel con rayas para tu respuesta.
- El día del examen, si tomarás el examen impreso, recibirás un cuadernillo del examen con espacio para planificar tu ensayo y un documento de respuestas con cuatro páginas con rayas para escribir tu respuesta.
- Lee la información y las instrucciones en las páginas 61-62 sobre la manera de calificar tu examen de redacción de práctica.

Calificación de tus exámenes

Cómo calificar los exámenes de opción múltiple

Sigue las instrucciones que aparecen a continuación y en las siguientes páginas para calificar tus exámenes de opción múltiple de práctica y para revisar tu desempeño.

Calificaciones sin procesar

El número de preguntas que contestaste correctamente en cada examen y en cada categoría del reporte es tu **calificación sin procesar**. Como hay muchas formas del examen ACT, cada una con preguntas diferentes, algunas formas serán ligeramente más fáciles (y otras ligeramente más difíciles) que otras. Por ejemplo, una calificación sin procesar de 67 en una forma del examen de inglés puede ser tan difícil de obtener como una calificación sin procesar de 70 en otra forma del mismo examen.

Para calcular tus calificaciones sin procesar, revisa tus respuestas con la clave de calificación de las páginas 57 a 59. Cuenta el número de respuestas correctas para cada uno de los cuatro exámenes y diecisiete categorías del reporte, e ingresa el número en los espacios en blanco que se proporcionan en esas páginas. Estos números son tus calificaciones sin procesar de los exámenes y en las categorías del reporte.

Calificaciones a escala

Para ajustar las pequeñas diferencias que ocurren entre las diferentes formas del examen ACT, las calificaciones sin procesar de los exámenes se convierten a **calificaciones a escala**. Las calificaciones a escala se imprimen en los reportes que se te envían a ti y a las universidades y agencias de becas de tu preferencia.

Cuando tus calificaciones sin procesar se convierten en calificaciones a escala, es posible comparar tus calificaciones con las de aquellos examinados que tomaron formas de exámenes diferentes. Por ejemplo, una calificación a escala de 26 en el examen de inglés tiene el mismo significado independientemente de la forma del examen ACT en la que se basó.

Para determinar las calificaciones a escala correspondientes a tus calificaciones sin procesar en el examen de práctica, consulta la Tabla 1 en la página 60, que explica los procedimientos utilizados para obtener las calificaciones a escala a partir de las calificaciones sin procesar. Esta tabla muestra las conversiones de calificaciones sin procesar a calificaciones a escala para cada examen. Como cada forma del examen ACT es única, cada una de ellas tiene tablas de conversión algo diferentes. Por consecuencia, esta tabla solo proporciona aproximaciones de las conversiones de las calificaciones sin procesar a calificaciones a escala que aplicarían si se tomara otra forma del examen ACT. Por lo tanto, las calificaciones a escala que se obtienen en los exámenes de práctica no coinciden con precisión con las calificaciones a escala que se obtienen en una administración real del examen ACT.

Cálculo de la calificación global

La **calificación global** es el promedio de las cuatro calificaciones a escala de inglés, matemáticas, lectura y ciencias. Si dejaste alguno

de estos exámenes en blanco, no se calcula una calificación global. Si tomas el examen ACT con redacción, tus resultados de redacción **no** afectan tu calificación global.

Comparación de tus calificaciones

En www.actstudent.org puedes encontrar información para comparar tus calificaciones de los exámenes de opción múltiple de práctica con las calificaciones de graduados recientes de la escuela secundaria que tomaron el examen ACT.

Tus calificaciones y porcentajes iguales o menores son solo **estimados** de las calificaciones que obtendrás en un examen ACT. Las calificaciones son solo un indicador de tu nivel de aprovechamiento. Considera tus calificaciones del examen en relación con tus calificaciones escolares, tu desempeño en actividades extracurriculares y tus intereses profesionales.

Normas de ACT de preparación para la universidad y una carrera profesional

Las Normas de ACT de preparación para la universidad y una carrera profesional describen las clases de habilidades, estrategias y entendimiento que necesitarás para hacer una transición exitosa de la escuela secundaria a la universidad. Para inglés, matemáticas, lectura y ciencias, las normas se proporcionan en seis rangos de calificaciones que reflejan la progresión y complejidad de las aptitudes en cada una de las áreas académicas medidas por los exámenes ACT. Para redacción, se proporcionan normas para cinco intervalos de calificación. Puedes encontrar las Normas de ACT de preparación para la universidad y una carrera profesional, así como calificaciones de referencia para cada examen en www.act.org.

Revisión de tu desempeño en los exámenes de opción múltiple

Ten en cuenta lo siguiente mientras revisas tus calificaciones:

- ¿Te faltó tiempo? Vuelve a leer la información de este cuadernillo respecto a distribuir tu tiempo. Tal vez necesites ajustar cómo usas tu tiempo para contestar las preguntas.
- ¿Pasaste demasiado tiempo tratando de entender las instrucciones para los exámenes? Las instrucciones para los exámenes de práctica son las mismas que aparecerán en tu cuadernillo del examen el día del examen. Es importante que las entiendas antes del día del examen.
- Revisa las preguntas que no contestaste correctamente. ¿Seleccionaste una respuesta que era una respuesta incompleta o que no contestó directamente la pregunta que se hacía? Trata de determinar qué se te pasó por alto cuando contestaste las preguntas.
- ¿Te confundió un tipo particular de pregunta? ¿Las preguntas que no contestaste correctamente pertenecen a un área particular de categoría del reporte? Al revisar tus respuestas, revisa si un tipo particular de pregunta o un área particular de categoría del reporte fue más difícil para ti.

Clave de calificaciones para los exámenes ACT de práctica

Usa la clave de calificaciones para cada examen y califica tu documento de respuestas de los exámenes de opción múltiple. Marca un "1" en el espacio en blanco por cada pregunta que hayas contestado correctamente. Suma los números de cada área de categoría del reporte y anota el número total correcto de cada una de estas áreas en los espacios en blanco que se proporcionan. Además anota el número total correcto de cada examen en los espacios en blanco que se proporcionan. El número total correcto para cada examen es la suma del número correcto de cada área de categoría del reporte.

Examen 1: Inglés—Clave de calificación

1874FPRE

Clave	Categoría del reporte*			Clave	Categoría del reporte*		
	POW	KLA	CSE		POW	KLA	CSE
1. A	—		—	39. D	—		
2. G				40. H	—		
3. A		—		41. B			—
4. F			—	42. F			—
5. C			—	43. C	—		
6. F			—	44. G			—
7. D		—		45. A		—	
8. G	—			46. F			—
9. C			—	47. B			—
10. J		—		48. G			—
11. C			—	49. D	—		
12. F		—		50. F			—
13. B	—			51. B			—
14. J			—	52. F		—	
15. B			—	53. D	—		
16. G			—	54. H			—
17. C			—	55. D	—		
18. F			—	56. H			—
19. C	—			57. A			—
20. G			—	58. G	—		
21. D	—			59. C	—		
22. G		—		60. J	—		
23. C			—	61. C			—
24. H	—			62. G			—
25. B			—	63. D		—	
26. F			—	64. J			—
27. C			—	65. B	—		
28. F			—	66. F			—
29. D		—		67. B			—
30. G	—			68. F	—		
31. C		—		69. D			—
32. J			—	70. F			—
33. C	—			71. C		—	
34. G			—	72. H	—		
35. A	—			73. D		—	
36. J			—	74. F	—		
37. C	—			75. D	—		
38. F			—				

*Categorías del reporte

POW = Producción de redacción

KLA = Conocimiento de la lengua

CSE = Convenciones del inglés estándar

Número correcto (calificación sin procesar) para:

Producción de redacción (POW) _____
(23)

Conocimiento de la lengua (KLA) _____
(12)

Convenciones del Inglés estándar (CSE) _____
(40)

Número total correcto para el examen de Inglés (POW + KLA + CSE) _____
(75)

Clave	Categoría del reporte*						
	PHM					IES	MDL
	N	A	F	G	S		
1. C						—	
2. K						—	—
3. B		—					
4. J		—	—				
5. D						—	—
6. H		—					—
7. D				—			—
8. G				—		—	
9. D				—			—
10. G				—		—	—
11. D			—				
12. H	—						—
13. B	—					—	
14. H					—		—
15. D						—	
16. K	—						—
17. B		—					
18. K						—	—
19. B				—			
20. K				—			—
21. B				—			—
22. F						—	—
23. C						—	
24. J						—	—
25. A		—					
26. H				—			—
27. A		—					
28. H						—	—
29. E						—	
30. J						—	—

Clave	Categoría del reporte*						
	PHM					IES	MDL
	N	A	F	G	S		
31. E						—	
32. G						—	—
33. E						—	
34. H						—	
35. C						—	—
36. J						—	
37. A						—	
38. K	—						—
39. D				—			—
40. K		—					
41. A						—	—
42. G			—				
43. C						—	—
44. F			—				—
45. A						—	—
46. J				—			—
47. B						—	
48. G						—	—
49. B				—			
50. J		—					—
51. C						—	
52. F		—					—
53. A			—				—
54. H			—				—
55. E			—				
56. H						—	—
57. B	—						
58. F	—						—
59. A		—					
60. K						—	—

Combine los totales de estas columnas y póngalos en el espacio en blanco para PHM en el recuadro a continuación.

***Categorías del reporte**

PHM = Preparación para matemáticas de nivel superior

N = Número y cantidad

A = Álgebra

F = Funciones

G = Geometría

S = Estadística y probabilidad

IES = Integración de aptitudes esenciales

MDL = Modelado

Número correcto (calificación sin procesar) para:

Preparación para matemáticas de nivel superior (N + A + F + G + S) _____ (35)

Integración de aptitudes esenciales (IES) _____ (25)

Número total correcto para el examen de matemáticas (PHM + IES) _____ (60)

Modelado (MDL) _____ (28)
(No se incluye en el número total correcto para la calificación sin procesar del examen de matemáticas)

Examen 3: Lectura—Clave de calificación

1874FPRE

Clave	Categoría del reporte*		
	KID	CS	IKI
1. A			
2. G	___		
3. A		___	
4. J	___		
5. C	___		
6. G	___		
7. D	___		
8. H		___	
9. C	___		
10. F	___		
11. D		___	
12. G			___
13. D	___		
14. J	___		
15. A		___	
16. G		___	
17. B	___		
18. H			___
19. A			___
20. H			___

Clave	Categoría del reporte*		
	KID	CS	IKI
21. C	___		
22. G		___	
23. D		___	
24. H	___		
25. D	___		
26. F		___	
27. C	___		
28. J	___		
29. A	___		
30. F		___	
31. D	___		
32. H	___		
33. B	___		
34. J	___		
35. C	___		
36. G	___		
37. A		___	
38. G	___		
39. A	___		
40. J	___		

***Categorías del reporte**

KID = Ideas y detalles clave

CS = Elaboración y estructura

IKI = Integración de conocimiento e ideas

Número correcto (calificación sin procesar) para:

Ideas y detalles clave (KID)	___
	(25)
Elaboración y estructura (CS)	___
	(11)
Integración de conocimiento e ideas (IKI)	___
	(4)
Número total correcto para el examen de lectura (KID + CS + IKI)	___
	(40)

Examen 4: Ciencias—Clave de calificación

1874FPRE

Clave	Categoría del reporte*		
	IOD	SIN	EMI
1. C	___		
2. J			___
3. B	___		
4. J			___
5. A			___
6. G	___		
7. C			___
8. J			___
9. C		___	
10. J			___
11. A			___
12. F			___
13. A	___		
14. H	___		
15. B		___	
16. J		___	
17. A		___	
18. H		___	
19. A	___		
20. G		___	

Clave	Categoría del reporte*		
	IOD	SIN	EMI
21. C	___		
22. H	___		
23. C	___		
24. H	___		
25. D	___		
26. J	___		
27. C	___		
28. F		___	
29. B	___		
30. F			___
31. D		___	
32. F			___
33. D		___	
34. G		___	
35. A		___	
36. J	___		
37. D	___		
38. J	___		
39. B		___	
40. G	___		

***Categorías del reporte**

IOD = Interpretación de datos

SIN = Investigación científica

EMI = Evaluación de modelos, Inferencias y resultados experimentales

Número correcto (calificación sin procesar) para:

Interpretación de datos (IOD)	___
	(18)
Investigación científica (SIN)	___
	(12)
Evaluación de modelos, inferencias y resultados experimentales (EMI)	___
	(10)
Número total correcto para el examen de ciencias (IOD + SIN + EMI)	___
	(40)

TABLA 1

Explicación de los procedimientos usados para obtener las calificaciones a escala a partir de las calificaciones sin procesar

En cada uno de los cuatro exámenes de opción múltiple en los que marcaste respuestas, el número total de respuestas correctas da una calificación sin procesar. Utiliza la tabla que aparece abajo para convertir tus calificaciones sin procesar en calificaciones a escala. Para cada examen, en la tabla que aparece abajo localiza y encierra en un círculo tu calificación sin procesar o el intervalo de calificaciones sin procesar que la incluye. Luego, pasa transversalmente a cualquiera de las columnas que se encuentran fuera de la tabla y encierra en un círculo la calificación a escala que corresponde a tu calificación sin procesar. Al ir determinando tus calificaciones a escala, anótalas en los espacios en blanco que se encuentran a la derecha. La calificación a escala más alta posible es 36. La calificación a escala más baja posible para cualquier examen en que hayas marcado respuestas es 1.

A continuación, calcula la calificación global promediando las cuatro calificaciones a escala. Para hacerlo, suma tus cuatro calificaciones a escala y divide el total entre 4. Si el número resultante termina en fracción, redondéalo al número entero más cercano. (Redondea hacia abajo cualquier fracción menor a la mitad y hacia arriba cualquier fracción que sea la mitad o más). Anota este número en el espacio en blanco. Ésta es tu calificación global. La calificación global más alta posible es 36. La calificación global más baja posible es 1.

Examen ACT 1874FPRE	Tu calificación a escala
Inglés	_____
Matemáticas	_____
Lectura	_____
Ciencias	_____
Suma de calificaciones _____	
Calificación global (suma ÷ 4) _____	

NOTA: Si dejaste un examen completamente en blanco y no marcaste ninguna respuesta, no listes una calificación a escala para ese examen. Si dejaste cualquier examen completamente en blanco, no calcules una calificación global.

Para calcular tu calificación de redacción, usa la rúbrica de las páginas 61 y 62.

Calificación a escala	Calificaciones sin procesar				Calificación a escala
	Examen 1 Inglés	Examen 2 Matemáticas	Examen 3 Lectura	Examen 4 Ciencias	
36	74-75	59-60	40	40	36
35	71-73	57-58	38-39	—	35
34	70	55-56	37	39	34
33	69	54	36	38	33
32	68	53	34-35	—	32
31	67	51-52	33	37	31
30	66	49-50	32	36	30
29	64-65	47-48	31	—	29
28	63	45-46	30	35	28
27	61-62	42-44	—	34	27
26	59-60	39-41	29	32-33	26
25	56-58	37-38	28	31	25
24	53-55	34-36	26-27	29-30	24
23	50-52	32-33	25	26-28	23
22	47-49	31	23-24	24-25	22
21	44-46	29-30	22	22-23	21
20	41-43	27-28	20-21	20-21	20
19	39-40	25-26	19	18-19	19
18	37-38	22-24	18	17	18
17	35-36	19-21	16-17	15-16	17
16	32-34	16-18	15	14	16
15	29-31	13-15	14	13	15
14	26-28	10-12	12-13	11-12	14
13	24-25	8-9	11	10	13
12	22-23	7	10	9	12
11	19-21	5-6	8-9	8	11
10	16-18	4	7	7	10
9	13-15	—	6	6	9
8	11-12	3	5	5	8
7	9-10	—	—	4	7
6	7-8	2	4	3	6
5	6	—	3	—	5
4	4-5	1	2	2	4
3	3	—	—	1	3
2	2	—	1	—	2
1	0-1	0	0	0	1

Cómo calificar el examen de redacción

Es difícil ser objetivo sobre el trabajo que hace uno mismo. Sin embargo, te beneficiará que leas críticamente tu propia escritura, ya que al hacerlo te desarrollarás como escritor y como lector. También puede ser útil que le des tu ensayo de práctica a otro lector: un compañero de clase, uno de tus padres o un maestro. Para calificar tu ensayo, tú y tu(s) lector(es) deben revisar las pautas y los ensayos de ejemplo de www.actstudent.org y usar la rúbrica de calificación que aparece a continuación para asignar a tu ensayo de práctica una calificación de 1 (baja) a 6 (alta) en cada uno de los cuatro dominios de redacción (Ideas y análisis, Desarrollo y sustentación, Organización, Uso del lenguaje).

Rúbrica de calificación (a continuación)

La rúbrica representa las normas que se utilizarán para evaluar tu ensayo. Los lectores utilizarán esta rúbrica para asignarle a tu ensayo cuatro calificaciones, una por cada dominio de redacción. Para calificar tu ensayo, determina cuál punto de calificación, en cada dominio, describe mejor las características de tu composición. Debido a que cada dominio recibe su propia calificación, las cuatro calificaciones que asignes no necesitan ser idénticas. Por ejemplo, podrías observar que tu ensayo es mejor en organización que en desarrollo de ideas. En este caso, podrías determinar que tu ensayo debe recibir una calificación más alta en Organización que en Desarrollo y sustentación.

Rúbrica de calificación del examen de redacción de ACT

	<i>Ideas y análisis</i>	<i>Desarrollo y sustentación</i>	<i>Organización</i>	<i>Uso del lenguaje</i>
Calificación 6: Las respuestas en este nivel de calificación demuestran habilidad eficaz en la redacción de un ensayo argumentativo.	El escritor genera un argumento que interactúa críticamente con múltiples perspectivas sobre el tema en cuestión. La tesis del argumento refleja matices y precisión en raciocinio y propósito. El argumento establece y emplea un contexto perspicaz para el análisis del tema y sus perspectivas. El análisis examina implicaciones, complejidades y tensiones, y/o valores y suposiciones subyacentes.	El desarrollo de las ideas y la sustentación de las aseveraciones profundizan la perspicacia y amplían el contexto. Una línea integrada de razonamiento e ilustración hábil transmiten de manera eficaz la importancia del argumento. Las calificaciones y las complicaciones enriquecen y refuerzan las ideas y el análisis de las mismas.	La respuesta muestra una estrategia organizacional hábil. La respuesta está unificada por una idea o propósito principal, y una progresión lógica de las ideas aumenta la eficacia del argumento del escritor. Las transiciones entre los párrafos y dentro de los mismos fortalecen las relaciones entre las ideas.	El uso del lenguaje realiza el argumento. La elección de vocabulario es hábil y precisa. Las estructuras sintácticas son consistentemente variadas y claras. Las elecciones estilísticas y de registro, incluyendo voz y tono, son estratégicas y eficaces. Aunque pueden existir algunos errores menores de gramática, uso y mecánica, estos no obstaculizan la comprensión.
Calificación 5: Las respuestas en este nivel de calificación demuestran habilidad bien desarrollada en la redacción de un ensayo argumentativo.	El escritor genera un argumento que interactúa productivamente con múltiples perspectivas sobre el tema en cuestión. La tesis del argumento refleja precisión en raciocinio y propósito. El argumento establece y emplea un contexto bien pensado para el análisis del tema y sus perspectivas. El análisis aborda implicaciones, complejidades y tensiones, y/o valores y suposiciones subyacentes.	El desarrollo de las ideas y la sustentación de las aseveraciones profundizan el entendimiento. Una línea en su mayor parte integrada de razonamiento e ilustración bien dirigida transmiten de manera eficaz la importancia del argumento. Las calificaciones y las complicaciones enriquecen las ideas y el análisis de las mismas.	La respuesta muestra una estrategia organizacional productiva. En su mayor parte, la respuesta está unificada por una idea o propósito principal, y un secuenciamiento lógico de las ideas aumenta la eficacia del argumento. Las transiciones entre los párrafos y dentro de los mismos aclaran consistentemente las relaciones entre las ideas.	El uso del lenguaje apoya el argumento. La elección de vocabulario es precisa. Las estructuras sintácticas son claras y presentan variación frecuente. Las elecciones estilísticas y de registro, incluyendo voz y tono, son dirigidas y productivas. Aunque pueden existir errores menores de gramática, uso y mecánica, estos no obstaculizan la comprensión.
Calificación 4: Las respuestas en este nivel de calificación demuestran habilidad adecuada en la redacción de un ensayo argumentativo.	El escritor genera un argumento que interactúa con múltiples perspectivas sobre el tema en cuestión. La tesis del argumento refleja claridad en raciocinio y propósito. El argumento establece y emplea un contexto relevante para el análisis del tema y sus perspectivas. El análisis reconoce implicaciones, complejidades y tensiones, y/o valores y suposiciones subyacentes.	El desarrollo de las ideas y la sustentación de las aseveraciones aclaran el significado y el propósito. Las líneas de razonamiento claro e ilustración transmiten de manera adecuada la importancia del argumento. Las calificaciones y las complicaciones extienden las ideas y el análisis de las mismas.	La respuesta muestra una estrategia organizacional clara. La forma general de la respuesta refleja una idea o propósito principal emergente. Las ideas están lógicamente agrupadas y secuenciadas. Las transiciones entre los párrafos y dentro de los mismos aclaran consistentemente las relaciones entre las ideas.	El uso del lenguaje transmite el argumento con claridad. La elección de vocabulario es adecuada y en ocasiones precisa. Las estructuras sintácticas son claras y demuestran cierta variedad. Las elecciones estilísticas y de registro, incluyendo voz y tono, son apropiadas para el propósito retórico. Aunque existen errores de gramática, uso y mecánica, en raras ocasiones obstaculizan la comprensión.

Rúbrica de calificación del examen de redacción de ACT

	<i>Ideas y análisis</i>	<i>Desarrollo y sustentación</i>	<i>Organización</i>	<i>Uso del lenguaje</i>
Calificación 3: Las respuestas en este nivel de calificación demuestran cierta habilidad en la redacción de un ensayo argumentativo.	El escritor genera un argumento que responde a múltiples perspectivas sobre el tema en cuestión. La tesis del argumento refleja cierta claridad en raciocinio y propósito. El argumento establece un contexto limitado o tangencial para el análisis del tema y sus perspectivas. El análisis es simplista o algo confuso.	El desarrollo de ideas y la sustentación de aseveraciones son relevantes en su mayor parte pero son demasiado generales o simplistas. El razonamiento y la ilustración aclaran en gran medida el argumento, pero pueden ser algo repetitivos o imprecisos.	La respuesta muestra una estructura organizacional básica. La respuesta en su mayor parte es coherente y la mayoría de las ideas están lógicamente agrupadas. Las transiciones entre los párrafos y dentro de los mismos en ocasiones aclaran las relaciones entre las ideas.	El uso del lenguaje es básico y únicamente claro hasta cierto punto. La elección de vocabulario es general y ocasionalmente imprecisa. Las estructuras sintácticas son usualmente claras pero muestran poca variedad. Las elecciones estilísticas y de registro, incluyendo voz y tono, no son siempre apropiadas para el propósito retórico. Pueden existir errores de gramática, uso y mecánica que causan distracción, pero generalmente no obstaculizan la comprensión.
Calificación 2: Las respuestas en este nivel de calificación demuestran habilidad débil o inconsistente en la redacción de un ensayo argumentativo.	El escritor genera un argumento que responde débilmente a múltiples perspectivas sobre el tema en cuestión. La tesis del argumento, si es evidente, refleja poca claridad en raciocinio y propósito. Los intentos de análisis son incompletos, en su mayor parte irrelevantes o consisten principalmente de una reformulación del tema y sus perspectivas.	El desarrollo de las ideas y la sustentación de las aseveraciones son débiles, confusos o desarticulados. El razonamiento y la ilustración son inadecuados, ilógicos o circulares y no aclaran plenamente el argumento.	La respuesta muestra una estructura organizacional rudimentaria. El agrupamiento de ideas es inconsistente y a menudo no es claro. Las transiciones entre los párrafos y dentro de los mismos son confusas o están deficientemente formadas.	El uso del lenguaje es inconsistente y a menudo no es claro. La elección de vocabulario es rudimentaria y frecuentemente imprecisa. Las estructuras sintácticas en ocasiones no son claras. Las elecciones estilísticas y de registro, incluyendo voz y tono, son inconsistentes y no son siempre apropiadas para el propósito retórico. Existen errores de gramática, uso y mecánica que en ocasiones obstaculizan la comprensión.
Calificación 1: Las respuestas en este nivel de calificación demuestran habilidad baja o inexistente en la redacción de un ensayo argumentativo.	El escritor no logra generar un argumento que responda de manera inteligible a la tarea. Las intenciones del escritor son difíciles de discernir. Los intentos de análisis son confusos o irrelevantes.	Las ideas no están desarrolladas y las aseveraciones no están sustentadas. El razonamiento y la ilustración son confusos, incoherentes o inexistentes en gran medida.	La respuesta no muestra una estructura organizacional. Hay poca agrupación de ideas. Cuando están presentes, los dispositivos de transición no logran conectar las ideas.	El uso del lenguaje no logra demostrar habilidad para responder a la tarea. La elección de vocabulario es imprecisa y a menudo difícil de comprender. Las estructuras sintácticas a menudo no son claras. Las elecciones estilísticas y de registro son difíciles de identificar. Existen abundantes errores de gramática, uso y mecánica que a menudo obstaculizan la comprensión.

Cálculo de tu calificación de Redacción

Sigue estos pasos para calcular tu calificación de Redacción (rango de calificación de 2 a 12).

Pasos de cálculo de la calificación	Dominio	Calificación de la rúbrica	Calificación del dominio
1. Determina la calificación de la rúbrica para cada dominio	Ideas y análisis	_____	x 2 = _____
2. Multiplica la calificación de la rúbrica por 2 para obtener la calificación del dominio	Desarrollo y sustentación	_____	x 2 = _____
	Organización	_____	x 2 = _____
	Uso del lenguaje y convenciones	_____	x 2 = _____
3. Encuentra la suma de todas las calificaciones de los dominios (rango de 8 a 48)	Suma de las calificaciones de los dominios _____		
4. Divide la suma entre 4 (rango de 2 a 12)*	Calificación de Redacción _____		

*Redondea el valor al número entero más cercano. Redondea hacia abajo cualquier fracción menor a la mitad y hacia arriba cualquier fracción que sea la mitad o más.

The ACT® 2019–2020 Answer Document (No Writing)

EXAMINEE STATEMENTS, CERTIFICATION, AND SIGNATURE

1. Statements: I understand that by registering for, launching, starting, or submitting answer documents for an ACT® test, I am agreeing to comply with and be bound by the *Terms and Conditions: Testing Rules and Policies for the ACT® Test* (“Terms”).

I UNDERSTAND AND AGREE THAT THE TERMS PERMIT ACT TO CANCEL MY SCORES IF THERE IS REASON TO BELIEVE THEY ARE INVALID. THE TERMS ALSO LIMIT DAMAGES AVAILABLE TO ME AND REQUIRE ARBITRATION. BY AGREEING TO ARBITRATION, I WAIVE MY RIGHT TO HAVE DISPUTES HEARD BY A JUDGE OR JURY.

I understand that ACT owns the test questions and responses, and I will not share them with anyone by any form of communication before, during, or after the test administration. I understand that taking the test for someone else may violate the law and subject me to legal penalties. I consent to the collection and processing of personally identifying information I provide, and its subsequent use and disclosure, as described in the ACT Privacy Policy (www.act.org/privacy.html). I also permit ACT to transfer my personally identifying information to the United States, to ACT, or to a third-party service provider, where it will be subject to use and disclosure under the laws of the United States, including being accessible to law enforcement or national security authorities.

2. Certification: Copy the italicized certification below, then sign and date in the spaces provided.

*I agree to the **Statements** above and certify that I am the person whose information appears on this form.*

Your Signature

Today's Date

Do NOT mark in this shaded area.

USE A SOFT LEAD NO. 2 PENCIL ONLY.
(Do NOT use a mechanical pencil, ink, ballpoint, correction fluid, or felt-tip pen.)

A NAME, MAILING ADDRESS, AND TELEPHONE
(Please print.)

Last Name _____ First Name _____ MI (Middle Initial) _____

House Number & Street (Apt. No.); or PO Box & No.; or RR & No. _____

City _____ State/Province _____ ZIP/Postal Code _____

Area Code _____ Number _____ Country _____

ACT, Inc.—Confidential Restricted when data present

ALL examinees must complete block A – please print.

Blocks B, C, and D are required for all examinees. Find the MATCHING INFORMATION on your ticket. Enter it EXACTLY the same way, even if any of the information is missing or incorrect. Fill in the corresponding ovals. If you do not complete these blocks to match your previous information EXACTLY, your scores will be **delayed up to 8 weeks**.

ACT®

PO BOX 168, IOWA CITY, IA 52243-0168

B MATCH NAME
(First 5 letters of last name)

<input type="radio"/>	<input type="radio"/>	<input type="radio"/>	<input type="radio"/>	<input type="radio"/>
A	A	A	A	A
B	B	B	B	B
C	C	C	C	C
D	D	D	D	D
E	E	E	E	E
F	F	F	F	F
G	G	G	G	G
H	H	H	H	H
I	I	I	I	I
J	J	J	J	J
K	K	K	K	K
L	L	L	L	L
M	M	M	M	M
N	N	N	N	N
O	O	O	O	O
P	P	P	P	P
Q	Q	Q	Q	Q
R	R	R	R	R
S	S	S	S	S
T	T	T	T	T
U	U	U	U	U
V	V	V	V	V
W	W	W	W	W
X	X	X	X	X
Y	Y	Y	Y	Y
Z	Z	Z	Z	Z

C MATCH NUMBER

<input type="radio"/>	<input type="radio"/>	<input type="radio"/>	<input type="radio"/>	<input type="radio"/>	<input type="radio"/>	<input type="radio"/>	<input type="radio"/>	<input type="radio"/>	<input type="radio"/>
1	1	1	1	1	1	1	1	1	1
2	2	2	2	2	2	2	2	2	2
3	3	3	3	3	3	3	3	3	3
4	4	4	4	4	4	4	4	4	4
5	5	5	5	5	5	5	5	5	5
6	6	6	6	6	6	6	6	6	6
7	7	7	7	7	7	7	7	7	7
8	8	8	8	8	8	8	8	8	8
9	9	9	9	9	9	9	9	9	9
0	0	0	0	0	0	0	0	0	0

D DATE OF BIRTH

Month	Day	Year		
<input type="radio"/> January				
<input type="radio"/> February				
<input type="radio"/> March	1	1	1	1
<input type="radio"/> April	2	2	2	2
<input type="radio"/> May	3	3	3	3
<input type="radio"/> June	4	4	4	4
<input type="radio"/> July	5	5	5	5
<input type="radio"/> August	6	6	6	6
<input type="radio"/> September	7	7	7	7
<input type="radio"/> October	8	8	8	8
<input type="radio"/> November	9	9	9	9
<input type="radio"/> December	0	0	0	0

Cortlar acqui

<p>Marking Directions: Mark only one oval for each question. Fill in response completely. Erase errors cleanly without smudging.</p> <p>Correct mark: ○ ● ○ ○</p> <p>-----</p> <p>Do NOT use these incorrect or bad marks.</p> <p>Incorrect marks: </p> <p>Overlapping mark: </p> <p>Cross-out mark: </p> <p>Smudged erasure: </p> <p>Mark is too light: </p>	<p>BOOKLET NUMBER</p> <table border="1" style="width: 100%; height: 100%; border-collapse: collapse;"> <tr><td style="width: 20px; height: 20px;"></td><td style="width: 20px; height: 20px;"></td><td style="width: 20px; height: 20px;"></td><td style="width: 20px; height: 20px;"></td><td style="width: 20px; height: 20px;"></td></tr> </table>						<p>FORM</p> <table border="1" style="width: 100%; height: 100%; border-collapse: collapse;"> <tr><td style="width: 20px; height: 20px;"></td><td style="width: 20px; height: 20px;"></td><td style="width: 20px; height: 20px;"></td></tr> </table> <p>Print your 3-character Test Form in the boxes above and fill in the corresponding oval at the right.</p> <p><input type="radio"/> PRE</p>				<p>BE SURE TO FILL IN THE CORRECT FORM OVAL.</p>

TEST 1					
1 (A B C D)	14 (F G H J)	27 (A B C D)	40 (F G H J)	53 (A B C D)	66 (F G H J)
2 (F G H J)	15 (A B C D)	28 (F G H J)	41 (A B C D)	54 (F G H J)	67 (A B C D)
3 (A B C D)	16 (F G H J)	29 (A B C D)	42 (F G H J)	55 (A B C D)	68 (F G H J)
4 (F G H J)	17 (A B C D)	30 (F G H J)	43 (A B C D)	56 (F G H J)	69 (A B C D)
5 (A B C D)	18 (F G H J)	31 (A B C D)	44 (F G H J)	57 (A B C D)	70 (F G H J)
6 (F G H J)	19 (A B C D)	32 (F G H J)	45 (A B C D)	58 (F G H J)	71 (A B C D)
7 (A B C D)	20 (F G H J)	33 (A B C D)	46 (F G H J)	59 (A B C D)	72 (F G H J)
8 (F G H J)	21 (A B C D)	34 (F G H J)	47 (A B C D)	60 (F G H J)	73 (A B C D)
9 (A B C D)	22 (F G H J)	35 (A B C D)	48 (F G H J)	61 (A B C D)	74 (F G H J)
10 (F G H J)	23 (A B C D)	36 (F G H J)	49 (A B C D)	62 (F G H J)	75 (A B C D)
11 (A B C D)	24 (F G H J)	37 (A B C D)	50 (F G H J)	63 (A B C D)	
12 (F G H J)	25 (A B C D)	38 (F G H J)	51 (A B C D)	64 (F G H J)	
13 (A B C D)	26 (F G H J)	39 (A B C D)	52 (F G H J)	65 (A B C D)	

TEST 2					
1 (A B C D E)	11 (A B C D E)	21 (A B C D E)	31 (A B C D E)	41 (A B C D E)	51 (A B C D E)
2 (F G H J K)	12 (F G H J K)	22 (F G H J K)	32 (F G H J K)	42 (F G H J K)	52 (F G H J K)
3 (A B C D E)	13 (A B C D E)	23 (A B C D E)	33 (A B C D E)	43 (A B C D E)	53 (A B C D E)
4 (F G H J K)	14 (F G H J K)	24 (F G H J K)	34 (F G H J K)	44 (F G H J K)	54 (F G H J K)
5 (A B C D E)	15 (A B C D E)	25 (A B C D E)	35 (A B C D E)	45 (A B C D E)	55 (A B C D E)
6 (F G H J K)	16 (F G H J K)	26 (F G H J K)	36 (F G H J K)	46 (F G H J K)	56 (F G H J K)
7 (A B C D E)	17 (A B C D E)	27 (A B C D E)	37 (A B C D E)	47 (A B C D E)	57 (A B C D E)
8 (F G H J K)	18 (F G H J K)	28 (F G H J K)	38 (F G H J K)	48 (F G H J K)	58 (F G H J K)
9 (A B C D E)	19 (A B C D E)	29 (A B C D E)	39 (A B C D E)	49 (A B C D E)	59 (A B C D E)
10 (F G H J K)	20 (F G H J K)	30 (F G H J K)	40 (F G H J K)	50 (F G H J K)	60 (F G H J K)

TEST 3					
1 (A B C D)	8 (F G H J)	15 (A B C D)	22 (F G H J)	29 (A B C D)	36 (F G H J)
2 (F G H J)	9 (A B C D)	16 (F G H J)	23 (A B C D)	30 (F G H J)	37 (A B C D)
3 (A B C D)	10 (F G H J)	17 (A B C D)	24 (F G H J)	31 (A B C D)	38 (F G H J)
4 (F G H J)	11 (A B C D)	18 (F G H J)	25 (A B C D)	32 (F G H J)	39 (A B C D)
5 (A B C D)	12 (F G H J)	19 (A B C D)	26 (F G H J)	33 (A B C D)	40 (F G H J)
6 (F G H J)	13 (A B C D)	20 (F G H J)	27 (A B C D)	34 (F G H J)	
7 (A B C D)	14 (F G H J)	21 (A B C D)	28 (F G H J)	35 (A B C D)	

TEST 4					
1 (A B C D)	8 (F G H J)	15 (A B C D)	22 (F G H J)	29 (A B C D)	36 (F G H J)
2 (F G H J)	9 (A B C D)	16 (F G H J)	23 (A B C D)	30 (F G H J)	37 (A B C D)
3 (A B C D)	10 (F G H J)	17 (A B C D)	24 (F G H J)	31 (A B C D)	38 (F G H J)
4 (F G H J)	11 (A B C D)	18 (F G H J)	25 (A B C D)	32 (F G H J)	39 (A B C D)
5 (A B C D)	12 (F G H J)	19 (A B C D)	26 (F G H J)	33 (A B C D)	40 (F G H J)
6 (F G H J)	13 (A B C D)	20 (F G H J)	27 (A B C D)	34 (F G H J)	
7 (A B C D)	14 (F G H J)	21 (A B C D)	28 (F G H J)	35 (A B C D)	